



**KKTC
MİLLÎ EĞİTİM ve KÜLTÜR BAKANLIĞI**

**KOLEJLERE GİRİŞ SINAVI-2
(KGS-2)**

20 HAZİRAN 2020 CUMARTESİ

1. OTURUM SORU KİTAPÇIĞI

TÜRKÇE - FEN VE TEKNOLOJİ - SOSYAL BİLGİLER

Adı Soyadı:.....

Aday No :.....

ÖĞRENCİLERİN DİKKATİNE!

1. Bu soru kitapçığı **20 sayfadan** oluşmaktadır.
2. Bu kitapçık; **27** Türkçe, **14** Fen ve Teknoloji ve **10** Sosyal Bilgiler sorusu içermektedir.
3. Cevap kâğıdının üzerinde adınız, soyadınız ve aday numaranız bilgisayar tarafından yazılmış ve kodlanmıştır.
4. Cevap kâğıdı üzerindeki tüm işaretlemeleri kurşun kalemle yapınız.
5. Cevap kâğıdınızı buruşturmayınız ve üzerine gereksiz işaret koymayınız.
6. Her soru için dört farklı seçenek verilmiştir. Bu seçeneklerden sadece bir tanesi doğru yanıt olup diğerleri yanlıştır.
7. Soru kitapçığı üzerindeki boş yerleri işlem yapmak için kullanabilirsiniz.
8. Sınav sonuçlarına www.mebnet.net adresinden ulaşabilirsiniz.

**SALON BAŞKANI SINAVINIZ BAŞLAMIŞTIR UYARISINDA BULUNMADAN
SORU KİTAPÇIĞINI AÇMAYINIZ.**

Soru 1. Aşağıdaki cümlelerin hangisinde “kendi” zamiri 3. tekil şahıs görevinde kullanılmıştır?

- A) Özel olarak kendilerine ayrılan yere oturdular.
- B) Her işini kendin yapmalısın.
- C) Dün okula gitmediğini kendi söyledi.
- D) Tiyatro gösterisi için kostümleri kendimiz hazırladık.

Soru 2.

PİNOKYO

Pinokyo, Carlo Collodi'nin yazdığı çok sevilen bir çocuk romanıdır. O, hünerli bir marangozun odundan yontarak yaptığı sonra da evlat edindiği bir kukladır. Haylaz ve tembel olan bu tahta kuklanın hataları yüzünden başına gelmedik kalmaz. Orman perisi, Pinokyo'yu korur. Peri, onun yalan söylemeyen, iyi bir çocuk olmasını istemektedir. Bunun için bir sihir yapar. Pinokyo her yalan söylediğinde burnu uzayacaktır. Haylaz kukla, verdiği sözlerde bir türlü durmaz. Kolaycı ve tembel olduğu için kötü niyetli kişilerce çabuk kandırılır. Bu yüzden başına pek çok bela gelir. Aslında Pinokyo, diğer arkadaşları gibi gerçek bir çocuk olmak istemektedir.



Yukarıdaki paragrafta hangisinin cevabı yoktur?

- A) Pinokyo isimli çocuk romanının yazarı kimdir?
- B) Pinokyo'nun başına pek çok bela gelmesinin nedeni nedir?
- C) Peri, Pinokyo'ya neden sihir yapmıştır?
- D) Pinokyo isteğine kavuştu mu?

Soru 3. Aşağıdakilerden hangisinde kullanılan isim tamlaması diğerlerinden farklıdır?

- A) Teyzemin uzaktan gelen sesi doldu kulaklarıma.
- B) Hırçın rüzgar, yağmur damlalarını camlara çarpıyordu.
- C) Evlerin çiçeklerle dolu bahçelerinde kelebekler uçuşurdu.
- D) Annesinin sözleri bir kulağından giriyor ötekenden çıkıyordu.

Soru 4. Aşağıda bir paragrafın giriş, gelişme ve sonuç bölümleri karışık olarak verilmiştir. Bölümlerin özelliklerine göre doğru eşleşme aşağıdakilerden hangisidir?

1 İlerde iyi bir yazar olmak için çok okumam gerektiğini biliyorum. Bunun için kütüphaneye üye oldum. Kütüphaneden ilgi duyduğum konulardaki kitaplara ulaşabiliyorum. Yazma becerimi geliştirmek için ise günlük tutuyorum.

2 Sözün kısası yazarlık hayalimi gerçekleştirmek için ilk adımları atıyorum.

3 Herkesin ilgi duyduğu bir meslek vardır. Benimki de yazarlık.

- A) 1-Gelişme 2-Giriş 3-Sonuç
 B) 1-Giriş 2-Gelişme 3-Sonuç
 C) 1-Gelişme 2-Sonuç 3-Giriş
 D) 1-Sonuç 2-Gelişme 3-Giriş

Soru 5.

Kuzey Kıbrıs'ın toplum hayatı gelenek, görenek, adetleri ve sosyal yaşantıları, doğal güzellikleri gibi çok renklidir. Düğün, sünnet, bayram, gibi sosyal törenleri, aile ilişkileri ve ailelerin bir araya gelip çeşitli etkinliklerde bulunması çok önemlidir. **(1)** Kıbrıs Türk Toplumunun karakteristik özelliklerinin başında “Konuk Ağırlama” gelir ki bu, tüm dünyada bilinen geleneksel Türk konukseverliğinin ta kendisidir. **(2)** Misafirlerin en kıdemlisi ve yaşlısı en saygın kişi olup tüm toplumun değer verdiği bir şekilde ağırlanır. **(3)** Kahve ikram kültürü çok gelişmiştir. Tanımadığınız bir ortama girdiğinizde bile mutlaka bir kahve ikram edilir. **(4)** İkram ve konukseverlik Kuzey Kıbrıs'ta günlük hayatın en belirgin özelliğidir.

Yukarıdaki paragrafı iki parçaya bölmek gerekirse, ikinci paragraf numaralandırılmış cümlelerin hangisiyle başlayacaktır?

- A) 1
 B) 2
 C) 3
 D) 4

Soru 6. Aşağıdaki görselden hareketle hazırlanan bir metinde seçeneklerde verilenlerden hangisi yer alamaz?



- A) Biyolojik çeşitliliği korumak için arıları olumsuz çevre koşullarının etkilerine karşı koruyan çalışmalara destek verilmesi gerekmektedir.
- B) Tarım kimyasalları, insan sağlığına zarar vermesi yanında bal arısı başta olmak üzere bazı böceklerin ölümüne de neden olmaktadır.
- C) Bal, sivilce tedavisi için önerilen doğal ürünler arasındadır. Ballı yüz maskeleri bakteri birikimini engeller ve sivilcelerin iyileşmesine yardımcı olur.
- D) Doğal, sağlıklı ve kaliteli bal tüketildiğinde arıcılık mesleğinin sürdürülebilirliğine katkı sağlanmış olacaktır.

Soru 7. Aşağıdaki cümlelerde seçeneklerdeki yazım kurallarından hangisinin örneği yoktur?

- Birleşmiş Milletler bünyesinde çalışmalarını sürdüren Dünya Sağlık Örgütü koronavirüsü pandemi ilan etti.
- Avrupalara gezmeye gittiği için kendini bir şey sanıyor.
- Komşumuzun yeni muhabbet kuşu Maviş, çok güzel ötüyordu.

- A) Evcil hayvanlara verilen özel adlar büyük harfle başlar.
- B) Önemli olaylar ve günler büyük harfle başlar.
- C) Kurum ve kuruluş isimleri büyük harfle başlar.
- D) Çoğul ekleri eklendikleri özel isimlere "abartma" anlamı katıyorsa bitişik yazılır.

Soru 8.

DOSTLUK

Dostum arı
 Bana her sabah
 Paylaşarak üretmenin
 Güzelliğini,
 Dostum karınca
 Dayanışmanın
 Ne güçlükleri
 Aşabileceğini,
 Dostum baykuş
 Bilgeliği,
 Dostum bülbül
 Neşeyi, sevinci,
 Arkadaşım Ali ise
 Bunların hepsini
 Hatırlatıyor.

Necdet NEYDİM

Okulda Necdet Neydim'in "Dostluk" isimli şiirini okuyan Ece, Zehra, Ahmet ve Emel, şairin arkadaşı Ali'yi birer cümleyle tanıtmışlardır. Buna göre öğrencilerden hangisinin söylediği doğru değildir?

- A) **Emel:** Ali, şairin çalışıp güçlükle kazandığı her şeyden pay istemektedir.
- B) **Ahmet:** Ali, zorluklar karşısında şairin yanında mücadele vermektedir.
- C) **Zehra:** Ali, öğüt alınabilecek akıllı ve bilgili bir arkadaştır.
- D) **Ece:** Ali iyi bir çocuktur; şairin hayatına neşe ve sevinç getirmektedir.

Soru 9.

Çocuk Olmak Zor

Çocuk olmak zor! Okula gitmek, ödev yapmak, odanızı toplamak, dişlerinizi fırçalamak zorundasınız. Sevmeseniz bile tabağınıza konulan tüm yemekleri bitirmeniz gerekiyor. Üstelik tüm bunları yapıp yapmadığınız, okuldaki ya da herhangi bir yerdeki kurallara uyup uymadığınız sürekli olarak büyükler tarafından kontrol ediliyor. Ama bu haksızlık! Çünkü büyükler istemedikleri yemekleri yemiyor, gece geç saatlere kadar oturabiliyor. Evde yalınayak dolaştıklarında kimse onlara bir şey demiyor. Yataklarını toplamadıklarında da sorun olmuyor. Peki ya çocuk olmanın hiç güzel yanı yok mu? Elbette var! Hem de o kadar çok ki!

Yukarıdaki metinde çocuğun "haksızlık" olarak gördüğü nedir?

- A) Okula gitmek zorunda olması
- B) Yatağını toplamak zorunda olması
- C) Büyüklerin uymadığı kurallara uymak zorunda olması
- D) Her yemekten sonra dişlerini fırçalamak zorunda olması

Soru 10.

Ben bir çınar ağacıydım o yol kıyısında. İnsanlar yanımdan gelip geçiyorlardı. Benim de insanlar gibi sevinçlerim ve acılarım vardı. Bazı günler sevenlerim çok oldu. Bazı günler de yanıma gelenler ceplerinden bıçaklarını çıkararak gövdeme isimlerini yazdılar. O bıçak yaraları yüzünden dişlerimi sıkıyordum. Bir gün de biri gelip eşeğini bağladı bedenime. Kendisi gölgeme oturdu. Eşek, keskin dişleriyle kabuğumu kemirdi. Bu olay olurken gölgemdeki adam eşeğini seyretti. O gün oracıkta öldüm. Gövdem, dallarım, yapraklarım kurudu. Biliyordum, bundan böyle odun olarak yakacaklardı beni. Yavru kuşları kurtaran çocuk ertesi gün yatağından kalkıp pencereden baktığında belki de şöyle seslenecekti: “Eyvah çınarı da öldürmüşler.”

Şevket YÜCEL

Yukardaki metne göre aşağıdakilerden hangisi “Siz olsaydınız metindeki çınar ağacını korumak için neler yapardınız?” sorusuna verilmiş bir cevap olamaz?

- A) Hayvanların ağaçları yemesini engelledim.
- B) İnsanlara ağaçları düzenli olarak sulamalarını söyledim.
- C) İnsanları ağaçlara zarar vermemeleri konusunda eğitirdim.
- D) İnsanlara ağaçların da canlı olduğunu öğrettirdim.

Soru 11. Aşağıdakilerden hangisinde boş parantezle () gösterilen yere hal eki getirilemez?

- A) Kapı() küçük bir çocuk duruyordu.
- B) Sen() önce kardeşinle tanışmıştım.
- C) O () bizimle gelecekmiş.
- D) Arkadaşım() dikkatle dinledim.

Soru 12.

Çocukların 10 Yaşında Alabilecekleri Sorumluluklar

- Kendi yatak çarşaflarını değiştirmek,
- Listedeki malzemeleri çarşıdan almak,
- Kendi randevularını takip etmek (diş hekimi, spor antrenmanı veya dil kursu)
- Okumak istediği kitapları almak,
- Basit yaralanmalarla başa çıkmak,



Verilen bilgilere göre aşağıda anlatılan ve hepsi 10 yaşında olan çocuklardan hangisi yaşına uygun bir sorumluluğu yerine getirmektedir?

- A) Havalar ısınınca Ayla annesinden yatağına ince çarşaf koymasını istedi.
- B) Ali, kitap okumayı sevdiği için babasından kendisine kitap almasını rica etti.
- C) Ayşe, yaz tatilinde diş doktoru olan babasının hasta randevularını takip ediyor.
- D) Asya, annesine bale dersinin cuma günü saat 10.00'a alındığını hatırlattı.

Soru 13.

Kıbrıs denince akla masmavi denizler ve kumsallar gelir. Ancak Kıbrıs'ı yaşamış olanlar için daha fazlası vardır. Hafta sonlarında en beklenmedik yerlerde sizi yakalayan mis gibi kebab kokusunu hatırlarsınız; hatta o koku burnunda tütüverir insanın. Sonbaharda bahçelerde kanat çırpan serçelerin civıltısı yükselir anılardan. Yemyeşil bahçeler, inadına kurak alanlar hatırlanır. Bir de yemekler... Aslını isterseniz Kıbrıs denince sadece denizi hatırlayanlar Kıbrıs'ı tanımamıştır.

Bu parçanın anlatımında aşağıdaki duyulardan hangisine ait detaylar kullanılmamıştır?

- A) Görme
- B) İşitme
- C) Tatma
- D) Koklama

Soru 14. Aşağıdaki sözcükler alfabetik olarak sıralandığında hangisi ilk sırada yer alır?

- A) Kamp
- B) Kapan
- C) Kapak
- D) Kapı

Soru 15. Ö, alfabenin tombul harflerinden biridir. Başkalarını işaret etmekten bıkmaz.
Ö çocuk çok çalışır, ö çalışmaz. Daha neler neler. Ö, işte. Hep konuşur hiç susmaz.

Yukarıdaki cümlede “o” sözcüğü için hangisi söylenemez?

- A) İlk “o” isim görevindedir.
- B) Tüm “o” sözcükleri, zamirdir.
- C) İkinci “o” sıfattır.
- D) “o” iki yerde isim olarak kullanılmıştır.

Soru 16. Yandaki görselden hareketle kaleme alınan bir yazının ana fikri aşağıdakilerden hangisi olabilir?

- A) Telefon size yeni bir ufuk açar; öyle ki hayatı kuşlar gibi yukarıdan görürsünüz.
- B) Teknoloji size yeni ve beklenmedik bir hayatın kapılarını açar.
- C) Teknoloji sizi hayata tutsak olmaktan kurtarır; öyle ki sorunları görmezsiniz bile.
- D) Teknoloji bazen sizi bir kuş kafesine kapatılmışçasına tutsak eder.



Soru 17. Aşağıdaki cümlelerin hangisinde belgisiz sözcüğün türü farklıdır?

- A) Biri gelip sessizce yanıma oturdu.
- B) Yiyeceklerin birazı bize yeterdi.
- C) Kimi insanlar çok düşüncesizce davranıyor.
- D) Arkadaşlarından bazıları onu desteklemişti.

Soru 18.

Çocuklar beni de alın içerinize,
Ben de güzel oyunlar oynamayı bilirim,
Çocuklar, imreniyorum şimdi size,
Yıllar oluyor ki kırıldı çemberim.

Ceyhun Atuf KANSU

Altı çizili sözcüklerin türleri aşağıdakilerden hangisinde sıralı ve doğru olarak verilmiştir?

- A) İsim-sıfat-zamir
- B) Zamir-sıfat-isim
- C) İsim-zamir-sıfat
- D) Zamir-isim-sıfat

Soru 19. Aşağıdakilerin hangisinde tamlananı soyut isim olan bir isim tamlaması kullanılmıştır?

- A) Kardeşimin mutluluğu gözlerinden okunuyordu.
- B) Bebeğin neşeli hareketleri herkesi güldürdü.
- C) Dağ çiçeklerinin güzel kokusu içimize doldu.
- D) Televizyonun sesi karşı sokaktan duyuluyordu.

Soru 20.

Ulu Önder Mustafa Kemal Atatürk'e 1930 yılında Yalova'daki yazlık köşkünün çatısına değen çınar ağacı dallarından birinin kesilmesi gerektiği bildirilir. Atatürk, ağaç dalının kesilmesi yerine köşkün ileri taşınmasını ister. İstanbul'dan getirilen tramvay rayları, binanın temelleri altına yerleştirilir ve bina rayların üzerine oturtulur. Bu yöntemle köşk, 4 metre 80 santim kaydırılır. Atatürk'ün bizzat katıldığı çalışmalar tamamlandığında ise hem yapı yıkılmaktan, hem de çınar kesilmekten kurtulur. Bu tarihten sonra ise iki katlı bina 'Yürüyen Köşk' olarak anılmaya başlar.

Yukarıdaki metinde Yürüyen Köşk ile ilgili aşağıdakilerden hangisine değinilmemiştir?

- A) Köşkün yerinin değiştirilmesinin nedenine
- B) Köşkün bulunduğu yere
- C) Köşkün yapılış tarihine
- D) Yer değişikliğinin nasıl yapıldığına

Soru 21. Aşağıdaki cümlelerin hangisinde altı çizili sözcükten sonra virgül (,) konulması sözcüğün türünü değiştirir?

- A) Bu çok da hoş giden bir durum değildi.
B) Şu köyde yıllarca dedesiyle birlikte kaldı.
C) O gerçekten önemli değildi.
D) Kimi arkadaş olmaktan rahatsızlık duyar.

Soru 22. Annem (1) kitabı bana ver demişti; ses tonu rica eder gibiydi ama (2) aslında bir emirdi.

Yukarıdaki cümlede numaralandırılmış yerlere “o” sözcüğü yerleştirildiğinde oluşacak yeni cümledeki “o” sözcüklerinin türü aşağıdakilerden hangisinde doğru olarak verilmiştir?

- | <u>1</u> | <u>2</u> |
|----------|----------|
| A) Sıfat | Zamir |
| B) Sıfat | Sıfat |
| C) Zamir | Zamir |
| D) Zamir | Sıfat |

Soru 23. Ece ve arkadaşları derste cümle içinde sıfat kullanma yarışması yapmaya karar verirler. Yarışmanın iki kuralı vardır:

- Kullanılan sıfat sayısı önemli değildir.
- Kurduğu cümlede en fazla sıfat çeşidini örnekleyen yarışmayı kazanacaktır.

Buna göre aşağıdaki öğrencilerden hangisi yarışmayı kazanmıştır?

- A) **Ece:** Yolun solunda sarı, mis kokulu, minicik çiçekler açmış bir ağaç vardı.
B) **Ayhan:** On gün sonra bazı adamların bir çocuğu kaçırmaya çalıştığını duyduk.
C) **Menteş:** Bu çocuk beş dakika içinde iki, büyük elma yedi.
D) **Sevgi:** Ahmet Bey, yüz liraya biraz erzak alıp büyük bir kutuya yerleştirdi.

Soru 24. Öğretmeninin verdiği cümleyi inceleyen Ali, cümledeki isimleri yandaki gibi sınıflandırmıştır. Buna göre Ali, aşağıdaki cümlelerden hangisini incelemiştir?

| Cins isim | Özel isim | Soyut isim | Çoğul isim |
|-----------|-----------|------------|------------|
| 3 | - | 1 | 1 |

- A) Zeynep ile dostluğumuz eskilere dayanır.
- B) Çiçek demetlerini neşeyle fırlatıyordu.
- C) Öğretmen, çiçekleri öğrencilere dağıtmasını istemiş.
- D) Onu bütün arkadaşlarımdan önce tanıdım.

Soru 25. Aşağıdakilerden hangisi bir paragrafın ilk cümlesi olamaz?

- A) Kum, güneş ışınları ile ısınır ve altındaki yumurtaları ısıtır.
- B) Dinazorlar ve dev kara kaplumbağaları tamamen yok oldu.
- C) Deniz kaplumbağaları, yaklaşık 95 milyon yıldan beri dünyamızda yaşamaktadır.
- D) Ülkemiz sularında bu türlerden sadece iki tanesi yaşar.

Soru 26. Aşağıda bir metnin cümleleri karışık olarak verilmiştir.

- I. Sırt tarafı kırmızımsı kahverengi alt tarafı ise beyazımsı açık sarı renklidir.
- II. Bu çukurlara bir defada 100 yumurta bırakabilir.
- III. Yavrular, 2 aylık kuluçka döneminden sonra gece vakti yumurtadan çıkarak denize giderler.
- IV. Yumurtlamak için karaya çıkar ve yumurtalarını kumsalda açtığı çukura gömer.
- V. Deniz kaplumbağası, denizlerde yaşar.


Metin düşünce akışına göre düzenlendiğinde doğru sıralama aşağıdakilerden hangisi olur?

- A) V – I – IV – II – III
- B) I – II – III – IV – V
- C) IV – V – II – I – III
- D) III – V – IV – II – I

Soru 27.

Bir bakarsın canlanır yer
Kırlar hep yeşiller giyer
Döner geline her ağaç
Süslü bir etektir yamaç
Dere akar çağıl çağıl
Kuzularla dolar ağıl
Şimdi bakarsın gök nurlu
Şimdi bakarsın yağmurlu
Güneş bir doğar bir kaçar
Hava bir kapar bir açar

Seçeneklerden hangisi şiirde anlatılan mevsimi karşılar?



TÜRKÇE TESTİNİZ BİTMİŞTİR.

YANITLARINIZI KONTROL EDEREK FEN VE TEKNOLOJİ TESTİNE GEÇİNİZ.

Soru 1. Hal değişimi ile ilgili olarak aşağıda verilenlerden hangisi **yanlıştır**?

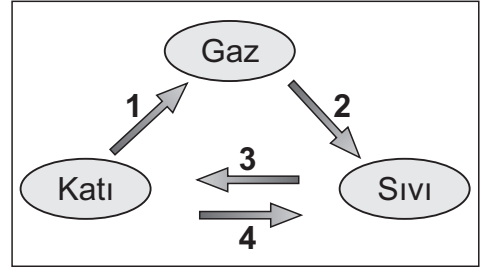
- A) Bir maddenin ısı vererek sıvı halden katı hale geçmesine donma denir.
- B) Erime ve donma olayları birbirinin tersidir.
- C) Sıvı maddelerin ısı alarak gaz haline geçmesine buharlaşma denir.
- D) Buharlaşma her sıcaklıkta gerçekleşmez. Buharlaşmanın gerçekleşmesi için kaynama noktasına ulaşmak gereklidir.

Soru 2. Bir kapta bulunan 30°C 'taki X sıvısına ısı verilmeye başlanıyor. Sıvı içinde bulunan termometre ile eşit zaman aralıklarıyla sıcaklığı ölçüldüğünde, X sıvısının sıcaklığının önce arttığı, 90°C 'a gelince sabit kalarak değişmediği görülüyor.

Buna göre X sıvısının Kaynama Noktası kaç $^{\circ}\text{C}$ 'tır?

- A) 90
- B) 90'dan büyük
- C) 90'dan küçük
- D) 100

Soru 3. Yandaki şekilde 1, 2, 3, 4 olarak gösterilen olaylarla ilgili verilenlerden hangisi **yanlıştır**?



- A) 1 numaralı olayın adı süblimleşmedir.
- B) 2 numaralı olay gerçekleşirken madde ısı alır.
- C) 3 numaralı olayın adı donmadır.
- D) 4 numaralı olay gerçekleşirken madde ısı alır.

Soru 4.

- I. Saf maddelerin erime ve donma noktaları aynıdır.
- II. Maddelerin erime ve donma noktaları miktarlarına bağlı değildir.
- III. Maddenin kaynama noktası miktarına bağlıdır.

Yukarıda verilen bilgilerden hangileri doğrudur?

- A) Yalnız I
- B) I ve II
- C) Yalnız III
- D) II ve III

Soru 5.

Elimize döktüğümüz kolonya kısa bir süre sonra buharlaşır. Kolonya buharlaşırken elimizde serinlik hissederiz.

Yukarıda anlatılan olayın sebebi hangi seçenekte doğru olarak verilmiştir?

- A) Kolonyanın kokulu bir sıvı olması
- B) Elimizin soğuk, kolonyanın sıcak olması
- C) Buharlaşmanın ısı alan bir olay olması
- D) Buharlaşmanın tüm sıcaklıklarda gerçekleşmesi

Soru 6.

Aşağıda isimleri belirtilen üç öğrenci, ısı ve sıcaklıkla ilgili bilgiler vermektedir.

Hangi öğrencilerin verdiği bilgiler doğrudur?

Sami: Isı bir enerji türüdür.

Ali: Sıcaklık fiziksel bir büyüklüktür ve termometre ile ölçülür.

Oya: Sıcaklık ve ısı birbiri ile aynı kavramlardır.

- A) Sami ve Oya
- B) Sami ve Ali
- C) Ali ve Oya
- D) Sami, Ali ve Oya

Soru 7.

Aşağıdaki metinde 1 ve 2 numaralı boşluklara yazılması gerekenler hangi seçenekte doğru olarak verilmiştir?

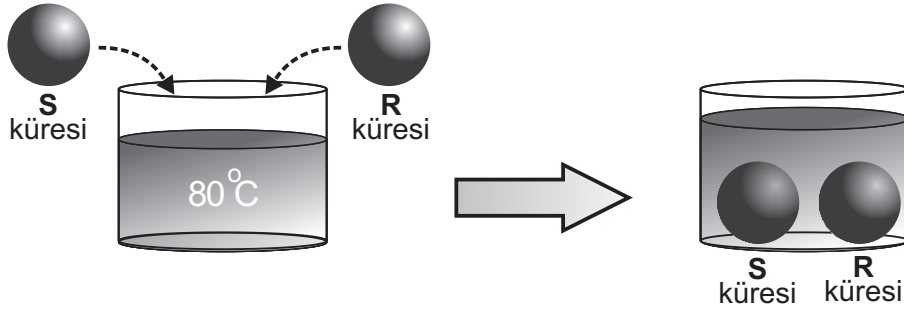
Maddeler, çevrelerinden ısı aldıklarında yani sıcaklıkları arttığında hacimleri büyür buna (1) denir. Çevrelerine ısı verdiklerinde ise sıcaklıkları azalır ve hacimleri küçülür, bu olaya da (2) denir?

- | | |
|-------------|----------|
| <u>1</u> | <u>2</u> |
| A) Uzama | Kısalma |
| B) Esneme | Daralma |
| C) Büyüme | Küçülme |
| D) Genleşme | Büzülme |

Soru 8. Aşağıda verilenlerden hangisi sıvı maddeleri ayırt etmede **kesinlikle** kullanılır?

- A) Kaynama Noktası
- B) Ağırlığı
- C) Sıvının rengi
- D) Bulunduğu kabın içindeki hacmi

Soru 9. Aşağıdaki kaptaki suyun sıcaklığı 80°C 'dir. Kaptaki suyun içine S ve R metal küreleri atılıyor. Bir süre sonra S küresinin genleştiği, R küresinin ise büzüldüğü görülüyor.



Buna göre S ve R metal kürelerinin, kaptaki suya atılmadan önceki sıcaklıkları hakkındaki bilgiler hangi seçenekte doğru olarak verilmiştir?

- A) S ve R kürelerinin sıcaklıkları 80°C 'tan büyüktür.
- B) S küresinin sıcaklığı 80°C 'tan büyük, R küresinin sıcaklığı 80°C 'tan küçüktür.
- C) S küresinin sıcaklığı 80°C 'tan küçük, R küresinin sıcaklığı 80°C 'tan büyüktür.
- D) S ve R kürelerinin sıcaklıkları 80°C 'tan küçüktür.

Soru 10. Işık ve sesle ilgili olarak aşağıda verilen bilgilerin hangileri doğrudur?

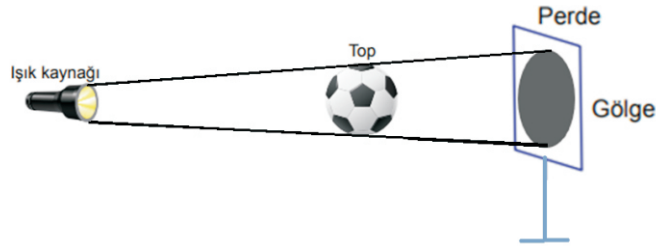
- I. Işık boşlukta yayılır.
- II. Ses titreşimle oluşur.
- III. Işığın yayılması için maddesel bir ortama ihtiyaç vardır.
- IV. Sesin yayılması için maddesel bir ortama ihtiyaç vardır.

- A) I ve II
- B) I, II ve IV
- C) II, III ve IV
- D) I, II, III ve IV

Soru 11. Yeni inşa edilen bir binada ses yalıtımı yapılmak isteniyor. Bunun için aşağıda verilenlerden hangisi yapılmalıdır?

- A) Beton duvarlar yerine metal levhalar kullanmak.
- B) Duvarları koyu renk bir boya ile boyatmak.
- C) Duvarları açık renk bir boya ile boyatmak.
- D) Duvarlar arasında boşluklar bırakmak.

Soru 12. Aşağıdaki şekilde perdede oluşan gölgenin boyunu **küçültmek** için seçeneklerde verilenlerden hangisi yapılmalıdır?



- A) Işık kaynağının şiddetini azaltmak.
- B) Işık kaynağını topa yaklaştırmak.
- C) Işık kaynağını toptan uzaklaştırmak.
- D) Perdeyi toptan uzaklaştırmak.

Soru 13. Tablolarda verilen bilgi ve tanımların doğru olarak eşleştirilmesi hangi seçenekte verilmiştir?

Bilgi

1. Üzerine düşen ışığı tamamen geçiren maddelere verilen addır.
2. Işığın bir kısmını geçiren maddelere denir.
3. Işık ışınlarını hiç geçirmeyen maddelere denir.
4. Ay'ın Dünya ile Güneş arasına girerek gölgesinin Dünya üzerine düşmesi olayına denir.
5. Dünya'nın gölgesinin Ay'ın üzerine düşmesi olayına denir.

Tanımlar

- A. Opak maddeler
- B. Saydam maddeler
- C. Yarı saydam maddeler
- D. Ay Tutulması
- E. Güneş Tutulması

- A) 1 → B , 2 → C , 3 → A , 4 → E , 5 → D
- B) 1 → A , 2 → B , 3 → C , 4 → E , 5 → D
- C) 1 → C , 2 → A , 3 → B , 4 → D , 5 → E
- D) 1 → B , 2 → A , 3 → C , 4 → D , 5 → E

Soru 14. Sesle ilgili olarak aşağıda verilen bilgilerden hangisi **yanlıştır**?

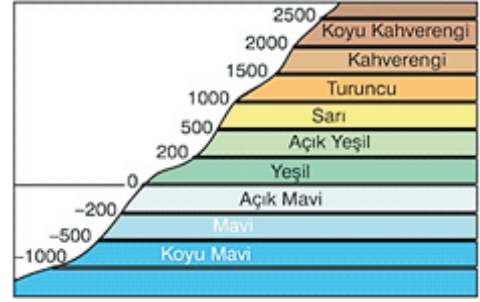
- A) Sesin yayılması için maddesel ortama ihtiyaç vardır.
- B) Ses en hızlı havada yayılır.
- C) Ses kaynağından uzaklaştıkça sesin şiddeti azalır.
- D) Aynı kaynaktan çıkan ses farklı ortamlarda farklı duyulur.

**FEN VE TEKNOLOJİ TESTİNİZ BİTMİŞTİR.
YANITLARINIZI KONTROL EDEREK SOSYAL BİLGİLER TESTİNE GEÇİNİZ.**

Soru 1. Yükselti basamaklarına göre yeryüzü şekillerinin dağılışını gösteren haritalara **fiziki harita** denir. Fiziki haritalarda renkleri doğru okuyarak yaşadığımız yerin yeryüzü şekilleri hakkında bilgi sahibi olabiliriz.

Hangi rengin hangi yükseltiye denk geldiği yanda gösterilmiştir.

Yokuş çıkan araçlar eğim miktarı arttıkça daha fazla yakıt tüketmektedir. Buna göre bir araç hangi yükselti basamakları arasında yolculuk yaparsa daha fazla yakıt tüketir?



- A) Yeşilden sarıya
- B) Turuncudan kahverengiye
- C) Açık yeşilden koyu kahverengiye
- D) Sarıdan turuncuya

Soru 2. Aşağıdakilerden hangisi yeryüzü şekillerinin yapısını, dağılışını ve yükseltilerini gösteren haritalardır?

- A) Beşerî ve Ekonomik haritalar
- B) Siyasi haritalar
- C) Özel haritalar
- D) Fiziki haritalar

Soru 3. Dünya'yı kuzey ve güney olmak üzere iki eşit parçaya bölen paralel dairesine ne denir?

- A) Kutup Noktası
- B) Greenwich
- C) Meridyen
- D) Ekvator

Soru 4. Aşağıdakilerden hangisi fiziki haritada yeşil renk ile gösterilebilir?


- A) Alevkayası
- B) St. Hilarion Kalesi
- C) Mesarya Ovası
- D) Selvilitepe

Soru 5.


Haritaları incelediğimizde üzerlerinde bazı işaretler ve renkler olduğunu görürüz. Devlet sınırları, kent merkezleri, kara ve demiryolları, havaalanları, tüneller ve benzeri yerler resim ve yazılarla gösterilemez. Haritalarda bu yerler işaretlerle (sembol) ifade edilir. Kullanılan bu işaretlerin ve renklerin ne anlama geldiği haritanın bir köşesinde gösterilir. Sembollerin yer aldığı bu bölüme **harita anahtarı (lejant)** adı verilir.

Bu bilgilere göre aşağıdakilerden hangisi bir harita anahtarında yer almaz?

A)  Orman

B)  Devlet Sınırı

C)  Kent Merkezi

D)  Kablosuz İnternet

Soru 6. Sosyal Bilgiler Dersinde grup çalışması yapan Sude, Ali, Büşra ve Kaan cetvel kullanarak öğretmenin her birine ayrı ayrı verdiği ikiye katlanmış mesafeyi ölçmüş ve çizgi ölçekten faydalanarak aralarındaki gerçek mesafeyi hesaplamışlardır.

| | Sude | Ali | Büşra | Kaan |
|-----------------|------|-----|-------|------|
| Harita uzunluğu | 7 | 5 | 13 | 16 |
| Gerçek uzunluk | 70 | 50 | 30 | 160 |

Kullanılan çizgi ölçeğinde 1 cm = 10 km'yi gösterdiğine göre öğrencilerden hangisinin hesaplaması yanlış olmuştur?

- A) Sude
- B) Ali
- C) Büşra
- D) Kaan

Soru 7. Aşağıda Sivil Toplum Kuruluşlarının bazı amaçları verilmektedir.



Buna göre Sivil Toplum Kuruluşları ile ilgili olarak aşağıdakilerden hangisi söylenemez?

- A) Birçok canlıya yardım eder.
- B) Toplumsal birlikteliği güçlendirir.
- C) Dayanışma duygusunu geliştirir.
- D) İnsanların gelir düzeylerinin artmasını sağlar.

Soru 8.

Resmî kurumların özellikleri, yasalarca belirlenmiş görev ve sorumlulukları vardır. Çalışma şartları ve yöntemleri devlet tarafından belirlenir. Resmî kurumlara Kamu Kurumları da denir. Çalışanlarına " _____ " ya da " _____ " denir.

Yukarıdaki parçada boş bırakılan yerleri en doğru olarak dolduran kelime çifti hangi seçenekte verilmiştir?

- A) çalışan – hizmetli
- B) kamu çalışanı – uzman
- C) kamu çalışanı – memur
- D) muhtar – bakan

Soru 9. Ceyda Öğretmen, öğrencilerine aşağıdaki soruyu soruyor.

İnsanların toplum hâlinde yaşamaya başlamaları, bazı sorunları beraberinde getirmektedir. Toplumu oluşturan bireyler arasındaki anlaşmazlıklar ve güçlü olanların zayıflara haksızlık yapması bu sorunların en önemlilerini oluşturmuştur. Toplum yaşamını tehdit eden bu sorunların çözümü için güçlü bir otoriteye ihtiyaç duyulmuştur. Bu ihtiyaç hangi kurumun ortaya çıkmasını sağlamıştır?

Öğrencilerin cevapları aşağıdaki gibidir.



Hangi öğrenci doğru cevabı vermiştir?

- A) Hüseyin
- B) Hacer
- C) Kemal
- D) Banu

Soru 10. Aşağıda resmi kurumlar ve sivil toplum kuruluşları ile ilgili bilgiler verilmiştir.

| RESMİ KURUMLAR | SİVİL TOPLUM KURULUŞLARI |
|---|--|
| Toplumun çeşitli alanlarda süreklilik gösteren ihtiyaçlarını karşılamak için kurulmuş topluluklara kurum denir. Devlet tarafından oluşturulmuş, kanunlar çerçevesinde yürütülen resmi kurumlarda maaşlı devlet çalışanları görev yapar. | Resmi kurumların ihtiyaçları karşılamakta güçlük çektiği zamanlarda duyarlı insanlar sorunların çözülmesi için bir araya gelerek kanunlar çerçevesinde gönüllü destek verirler. Bu insanların amaçlarına ulaşmak için oluşturdukları örgütlere Sivil Toplum Kuruluşları denir. |

Aşağıdakilerden hangisi bu kurumların ortak özellikleri arasında yer almaz?

- A) Kanunlara uygun olarak çalışırlar.
- B) Çalışmalarını çeşitli alanlarda yaparlar.
- C) Gönüllülük esasına dayalı hizmet verirler.
- D) Bireylerin ve toplumun ihtiyaçlarını karşılarlar.

**SOSYAL BİLGİLER TESTİYLE BİRLİKTE
I. OTURUM BİTMİŞTİR.
YANITLARINIZI KONTROL EDİNİZ.**

