



KKTC

MİLLÎ EĞİTİM BAKANLIĞI

Talim ve Terbiye Dairesi Müdürlüğü Sınav Merkezi

**KOLEJLERE GİRİŞ SINAVI
(KGS-1)**

25 OCAK 2025 CUMARTESİ

1. OTURUM SORU KİTAPÇIĞI

Ders Adı	Soru Sayısı	Sayfa	Sınav Süresi
Türkçe	27	1-9	90 dk
Fen ve Teknoloji	14	10-14	
Sosyal Bilgiler	10	15-17	

Ad-Soyad:.....

Aday No :.....

ÖĞRENCİLERİN DİKKATİNE!

1. Bu soru kitapçığı **17 sayfadan** oluşmaktadır.
2. Bu kitapçık; **27 Türkçe**, **14 Fen ve Teknoloji** ve **10 Sosyal Bilgiler** sorusu içermektedir.
3. Cevap kâğıdının üzerinde adınız, soyadınız ve aday numaranız bilgisayar tarafından yazılmış ve kodlanmıştır.
4. Cevap kâğıdı üzerindeki tüm işaretlemeleri kurşun kalemle yapınız.
5. Cevap kâğıdınızı buruşturmayınız ve üzerine gereksiz işaret koymayınız.
6. Her soru için dört farklı seçenek verilmiştir. Bu seçeneklerden sadece bir tanesi doğru yanıt olup diğerleri yanlıştır.
7. Soru kitapçığı üzerindeki boş yerleri işlem yapmak için kullanabilirsiniz.
8. Sınav sonuçlarına www.mebnet.net adresinden ulaşabilirsiniz.

**SALON BAŞKANI SINAVINIZ BAŞLAMIŞTIR UYARISINDA BULUNMADAN
SORU KİTAPÇIĞINI AÇMAYINIZ.**

1) Seçeneklerden hangisinde büyük harflerin kullanımıyla ilgili bir yazım yanlışı yapılmamıştır?

- A) Sınav kayıtları milli Eğitim Bakanlığında yapıldı.
- B) Okulumuz Yahya Kemal sokaktadır.
- C) Merkür, Güneş'e en yakın gezegendir.
- D) Kedim, Yumak yumak tüyleriyle çok tatlıdır.

2) Ağaçlar, dünyamızın en önemli canlılarından. Onlar yalnızca güzel bir görüntü sunmakla kalmaz, aynı zamanda oksijen üretir ve karbondioksiti temizler. Ayrıca, birçok hayvan için yuva ve yiyecek sağlarlar. İnsanlar da ağaçlardan odun, kâğıt ve çeşitli meyveler gibi birçok fayda elde eder. Ancak, ağaçların sayısı her geçen gün azalıyor. Bu yüzden ağaçları korumak ve yenilerini dikmek hem doğa hem de insanlar için çok önemlidir.



Metinle ilgili olarak seçeneklerden hangisi söylenemez?

- A) Metnin konusu ağaçlar ve ağaçların önemidir.
- B) Yazar, yeni ağaçlar dikilmesi gerektiğini düşünüyor.
- C) Yazara göre ağaçlar güzel bir görüntü sunmaktadır.
- D) Yazara göre ağaçlar insanlar için yuva sağlamaktadır.

3)

RESİM YARIŞMASI

KONU: Suyun Temiz Tutulmasının Önemi ve Su Kirliliğinin Zararları

AMAÇ:

KAPSAMI: Yarışma, ilkokulların 1. ve 2. sınıfları arasında yapılacaktır.

Seçeneklerden hangisi yukarıdaki metnin **AMAÇ** bölümüne yazılamaz?

- A) Öğrencilerin en başarılı oldukları sanat dallarını belirlemek.
- B) Öğrencilerin resim alanındaki yeteneklerini ortaya koymalarını sağlamak.
- C) Öğrencilerin suyun temiz tutulmasının önemi hakkında düşünmelerini sağlamak.
- D) Öğrencilerin su kirliliğinin zararları hakkında düşünmelerini ve görsel olarak kendilerini ifade etmelerini sağlamak.

4)

1	Dünkü maçın sonunda hakem penaltı verdi.	Nesnel Cümle
2	Kalemimi kaybederse çok üzülecek.	Neden – Sonuç Cümlesi
3	Gözyaşları sel oldu aktı.	Duygusal İfade
4	Sınavdan iyi not alınca çok mutlu oldu.	Abartılı İfade
5	Ali sınıfın en uzunudur.	Karşılaştırma Cümlesi

Tablodaki cümlelerden hangileri **değerlendirilirken hata** yapılmıştır?

- A) 1 ve 5
B) 2, 3 ve 4
C) 1,2 ve 3
D) 2, 4 ve 5

5) Aysun Öğretmen, öğrencilerinden birinci tabloda **verilen cevaplara karşılık gelen sorular yazmalarını** istemiştir. Öğrenciler ikinci tabloda verilen soruları yazdıklarına göre **sorular, uygun cevaplarla eşleştirildiğinde hangi cevap için uygun soru yazılmadığı görülür?**

1. Tablo

CEVAPLAR

- Hayır; sanırım unutmuş.
- Ahmet karnesini almamış.
- Kilit bozulmuş, birazdan tamirci gelecek.
- Evet; doğum günümde Ayşe hediye etmişti.

2. Tablo

SORULAR

- Eda:** Ödevini yapmış mı?
Gül: Bu kalem senin değil mi?
Hasan: Kapıyı kilitlemedin mi?
Arif: Neden bizimle gelmiyorsun?

- A) 4
B) 3
C) 2
D) 1

6)

C den sonra gelen harfi çoğu zaman unuturuz.
Bin birinci gün Kel Oğlanın evine varmışlar.
TV de güzel bir film vardı.

Yukarıdaki cümlelerde gerekli yerlere kesme işareti yerleştirdiğimizde seçeneklerden hangisine uygun bir örnek oluşmaz?

- A) Özel isimlere getirilen çekim eklerini ayırmak için kesme işareti kullanılır.
B) Sayılara getirilen ekleri ayırmak için kesme işareti kullanılır.
C) Kısaltmalara getirilen ekleri ayırmak için kesme işareti kullanılır.
D) Bir harf ya da ekten sonra gelen ekleri ayırmak için kesme işareti kullanılır.

- 7) Grup resmi için büyük ambalaj kâğıtları kullanılır. İki ya da üç ambalaj kâğıdı yan yana yapıştırılır. Hazırlanan resim kâğıdı, kaymasını önlemek için duvara ya da yere şeffaf bantla tutturulur. Çeşitli renklerde hazırlanmış sulu boyalar derin olmayan kaplara konur. Çocuklara uzun boya fırçaları verilir. Grup halinde çalışmak isteyen çocuklar, bir araya gelerek çalışmak istedikleri konuyu öğretmenle birlikte saptarlar. Örneğin, “denizde yaşayan hayvanlar” gibi. Öğretmen, yapacakları resmin konusu hakkında karar verirken çocuklara yardımcı olur. Konu saptandıktan sonra, her çocuk konu ile ilgili resimler yapar ve konu ile ilgili güzel bir kompozisyon ortaya çıkar. Grup resmi mum boya ile de çalışılabilir. Sonuçta çocuklar beraber çalışma ve işbirliği yapma alışkanlığını kazanırlar.

Aşağıdaki ifadelerden metne göre doğru olanlar D, yanlış olanlar Y şeklinde değerlendirildiğinde doğru sıralama seçeneklerden hangisi olur?

Grup resmi, duvara ya da yere tutturulan ambalaj kâğıtları üzerine yapılır.	()
Çocuklar, grup resmi yaparken sulu boya veya mum boya kullanabilirler.	()
Tüm öğrenciler grup resmi yapımına katılmalıdır.	()
Grup resminin konusuna öğretmenler karar verir.	()
Sulu boya ile çalışan çocuklar, işbirliği yapma alışkanlığı kazanamazlar.	()

A) D	B) Y	C) D	D) Y
Y	D	D	Y
D	Y	Y	D
Y	D	Y	D
D	D	Y	Y

- 8) Boş bırakılan yere seçeneklerden hangisi getirilirse cümle öznel bir anlam kazanır?

Yazar bu kitabında anlatmış.


- A) Atatürk'ün hayatını
 B) mutlu bir kız çocuğunu
 C) zeytin ağaçlarını
 D) Kıbrıs'ın en güzel köyünü

9)

Yalan söylediği için çok kırıldım.

Aksel, Türkçe dersinde “ Yalan söylediği için çok kırıldım.” cümlesinde “kırıldım” kelimesinin altını çizmiş böylece öğretmenin isteğini doğru olarak yerine getirmiştir.

Buna göre öğretmenin isteği, hangi seçenekte doğru olarak verilmiştir?



- A) Cümlede mecaz anlamlı sözcüğün bulunması.
- B) Cümlede terim anlamlı sözcüğün altının çizilmesi.
- C) Cümlede gerçek anlamlı bir sözcüğün işaretlenmesi.
- D) Cümlede “Küsmek” sözcüğünün sestesinin bulunması.

10) Türkçe dersinde seçeneklerde verilen metni okuyan Gülcan'ın hangi cümlede ses tonunu değiştirmesi beklenir?

- A) Sabah erken saatlerde oğlunu uyandırmaya çalışıyordu.
- B) Yaşlı kadının sabrı tükenmek üzereydi.
- C) Oğlunun üzerindeki yorganı hızla çekti ve bir çırpıda:
- D) “Sen o okulun müdürüsün, dedi. Haydi okula, marş marş!”

11)



HACİVAT(1) Allah iyiliğini versin(2) hemen saçmalamaya başladın(3) Kilo almışsın diyorum(4)

Cümleleri doğru olarak tamamlamak için numaralanmış boş parantezlerden hangisine iki nokta (:) işareti getirilmelidir?

- A) 1
- B) 2
- C) 3
- D) 4

12) Aşağıdaki cümlelerin yanında hangi sorulara cevap verdikleri belirtilmiştir. Buna göre hangi cümlenin cevap verdiği sorular yazılırken hata yapılmıştır?

- A) Yaklaşık 8.000 yıl önce, insanlar köylerde toplu olarak yaşamaya başlamıştır. (ne zaman, nerede)
- B) Ali, bu özel günü coşkuyla kutlamış. (kim, nasıl)
- C) Dünkü uçakla kardeşlerini yurt dışına gönderdi. (kimleri, nereye)
- D) Ocağın gaz kaçırdığını anladığımdan çok korkmuştum. (ne zaman, niçin)

13) Tarık Öğretmen, öğrencilerinden “ bol bol kitap okudu.” sonucuna uygun nedenler yazmalarını istemiştir.

Buna göre seçeneklerden hangisinde öğrenci, isteneni doğru olarak yerine getirmiştir?

- A) Berke: Türkçesini geliştirmek için
- B) Can: Tren yolculuğunda sıkıldığı için
- C) Esra: Öğretmenini mutlu etmek için
- D) Berna: Kelime haznesini artırmak için

14) Atatürk bir gezisinde kolordu binasının kapısında aslan yapılı bir Mehmetçik gördü.

Yukarıdaki cümleden hangisi çıkarılamaz?

- A) Atatürk, bir kez geziye çıktı.
- B) Atatürk, kolordu binasına gitmişti.
- C) Mehmetçik oldukça güçlü görünüyordu.
- D) Kolordu binasının kapısında bir Mehmetçik vardı.

15) **Seçeneklerden hangisinde diğerlerinden farklı bir duyuya yer verilmiştir?**

- A) Beyaz evin arkasında yemyeşil bir orman uzanıyordu.
- B) Kuşlar civıltılarıyla selamlıyordu yeni günü.
- C) Boy boy yapraklar, neşeli hışırtılar çıkarıyordu.
- D) Irmağın şarkısı ruha huzur veriyordu.

16) **Ayşe, Türkçe dersinde “Aşağıdaki kelimelerin anlamlarını araştıralım yazalım.” etkinliğinde sözcüklerin anlamlarını aşağıdaki gibi yazdığına göre seçeneklerden hangisi etkinlikte verilen sözcükler arasında yer almaz?**

- İnce ve seyrek dokunmuş, hafif ve yumuşak pamuklu bez.
- Söz dinleyen, boyun eğen, buyruğa uyan.
- Eksikliği duyulan şey; ihtiyaç.

- A) Gereksinim
- B) Tülbent
- C) Kavim
- D) İtaatkar

- 17) 1. Oyunculardan biri oyun alanına kukayı koyar; bu kuka için top ya da teneke kutu kullanabilirsiniz.
2. Ebe, kukayı orta alana getirdikten sonra saklananları ararken diğer oyuncular yeniden kukayı uzağa atabilir.
3. Aralarından biri ebe seçilir; aman ebe seçilen buz kesilmesin.
4. Bir oyuncu kukaya vurarak kukayı oyun alanından uzak bir noktaya atar; ebe topu alıp tekrar oyun alanına getirene kadar diğer oyuncular saklanmaya çalışır.
5. Kukalı saklambaç oyununda oyuncular oyun alanında toplanıp daire oluştururlar.
6. Ebe birini bulduğu an kukaya basar ve "Kukaladım." der; oyun bu şekilde devam eder.

Yukarıdaki cümlelerle anlamlı bir paragraf oluşturulduğunda doğru sıralama seçeneklerden hangisi olur?

- A) 5 - 3 - 1 - 4 - 2 - 6
B) 1 - 2 - 5 - 3 - 6 - 4
C) 1 - 4 - 2 - 5 - 3 - 6
D) 5 - 3 - 6 - 2 - 1 - 4

- 18) **Seçeneklerden hangisi bir paragrafın giriş cümlesi olamaz?**

- A) Benim adım karahindiba; Papatya ailesinden bir bitkiyim.
B) Bahattin Usta, övünmekten de övülmekten de hoşlanmazdı.
C) Yıllardır görmediğiniz bir dostunuzun yolda karşınıza çıktığını düşünün.
D) Şifa arayanlar yanında ödev peşinde koşan öğrenciler de kitaba başvurabilir.

- 19) **Seçeneklerden hangisinde benzetme yapılmıştır?**

- A) Pazardan aldığım biberler zehir gibi acıymış.
B) Sınıfın en çalışkanları tiyatro kulübündeydi.
C) Şiiri senin kadar iyi okuyabilirmiş.
D) Bugün hava dünkü kadar güzel.

20)

.....
 Köklerim derinlerde, toprağın bağrında,
 Dallarım gökyüzüne uzanır umutla.
 Her bir yaprak, bir hikaye anlatır,
 Rüzgarla dans eder, sessizce fısıldar.

Mevsimler geçer, ben hep buradayım,
 Kışın karla örtülür, baharda çiçek açarım.
 Benimle huzur bulur, doğanın kucağında.
 Gölgede dinlenir yorgun yolcular,

Bu metne getirilebilecek en uygun başlık seçeneklerden hangisidir?

- A) Toprağın Bağrında
- B) Adım Ağaç
- C) Doğanın Kucağında
- D) Benimle

21) Yandaki görselden hareketle yazılacak metnin konusu seçeneklerden hangisinde verilmiştir?



- A) Gemi Çeşitleri
- B) Fırtına
- C) Deniz
- D) Denizde Fırtına

22) Aşağıdaki cümlelerden hangisi ayraç içinde verilen duygu ile uyuşmaz?

- A) Onun bu haline yüreğim dayanmadı. (acıma)
- B) Bu arabayı almamız hataydı. (pişmanlık)
- C) Maç boyunca hop oturduk hop kalktık. (korku)
- D) Çayı hiçbir içeceğe değişmem. (beğeni)

- 23) İki kurbağa çiftlikte dolaşırken kendilerini krema dolu bir kabın içerisinde bulurlar ve batmaya başlarlar. Can havliyle çırpınırlar fakat çırpındıkça daha da batarlar. İçlerinden biri artık kurtulamayacağı düşüncesi ile kendini bırakır ve boğulur. Diğeri ise pes etmez. Kararlı bir şekilde çırpınır, çırpınır... Sonunda bir şey fark eder: Kabın içindeki krema gittikçe sertleşmektedir. Çırpınmaya devam eder. Gücü tükenmek üzeredir. Krema da iyice sertleştiğinden üzerine çıkar ve bir sıçrayışta kurtulur.

Yukarıdaki parçada seçeneklerdeki hikâye unsurlarından hangisi yoktur?

- A) Kişi
- B) Zaman
- C) Yer
- D) Olay

- 24) Ormanın en korkak hayvanıydı küçük tavşan. Yaprak kımıldasa ödü kopuyor, saklanacak yer arıyordu. Bu yüzden huzur bulamıyordu. Korkmaması gerektiği konusunda kendisine yapılan öğütler de işe yaramıyordu. Bir gün gezmeye çıktı ormanda. Ama korka korka, saklana saklana... Gölün kıyısına geldiğinde kurbağalar onu gördü ve korkuyla suya atladı. Buna çok şaşırıldı. "Oysa korkan ben olmalıydım. Meğer benden korkan da varmış!" diye düşündü. O günden sonra korkuyu kalbinden sildi ve daha huzurlu bir yaşam sürmeye başladı.




Yukarıdaki paragraf seçeneklerden hangisine cevap vermez?

- A) Tavşan her şeyden korkmaktan ne zaman vazgeçti?
- B) Ormanın en korkak hayvanı hangisiymiş?
- C) Tavşana korkmamasını öğütleyen kimdi?
- D) Tavşan neden huzur bulamıyordu?

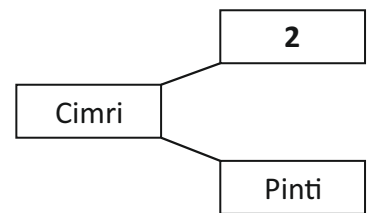
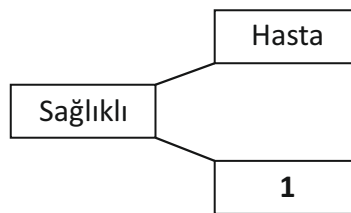
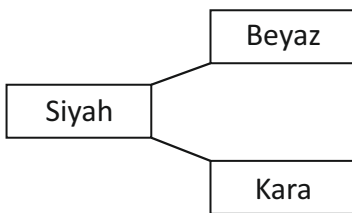
- 25) **Seçeneklerden hangisinde terim anlamlı bir sözcük kullanılmamıştır?**

- A) Arkadaşıma attığım top taca çıktı.
- B) Kitabın ilk sayfası yırtılmış.
- C) Bu derste notaları öğrendik.
- D) Şiir dizelerden oluşur.

- 26) Gamze Öğretmen, öğrencilerinden deyimleri anlatan görseller getirmelerini istemiştir. Buna göre hangi görsel “Küçük bir zarardan kurtulmak için çok büyük bir zararı göze almak.” anlamına gelen deyim anlatmaktadır?



27)



Yukarıdaki numaralandırılmış boş kutulara hangi sözcükler gelmelidir?

- A) 1: İyi 2: Sağlam
 B) 1: Sihatli 2: Tutumlu
 C) 1: Sihatli 2: Cömert
 D) 1: Sağlam 2: Tutumlu

TÜRKÇE TESTİ BİTMİŞTİR.

- 1) Hüseyin bisiklet sürerken dengesini kaybederek düştü ve dizinde derin bir yara açıldı. Babası hemen Hüseyin'i doktora götürdü. Doktor gerekli müdahaleyi yapıp yarasını sardıktan sonra hızlıca iyileşebilmesi için beslenmesine dikkat etmesi gerektiğini söyleyerek, tüketmesi gereken besinler hakkında bilgi verdi.

Yaranın erken iyileşebilmesi için doktor, Hüseyin'e hangi tür besinleri tüketmesi gerektiğini söylemiştir?

- A) Karbonhidratlar
B) Vitaminler
C) Proteinler
D) Yağlar

- 2) Aşağıdaki tablolarda verilen besinler ve tanımların doğru eşleştirilmesi hangi seçenekte verilmiştir?

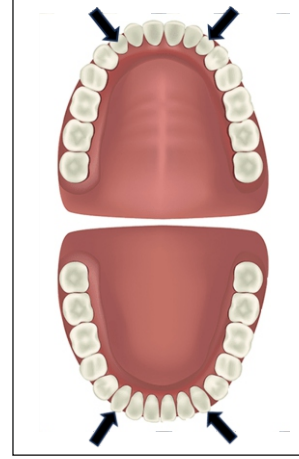
Besinler	Tanımlar
1- Proteinler	A- Vücudun düzenli olarak çalışabilmesi ve hastalıklardan korunabilmesi için gerekli olan besin grubudur.
2- Karbonhidratlar	B- Yapıcı ve onarıcı besin grubudur.
3- Yağlar	C- Vücudun ihtiyaç duyduğu enerjinin büyük çoğunluğunun sağlandığı besin grubudur.
4- Vitaminler	D- Enerji veren besin gruplarından biri olmakla birlikte iç organları ve vücudu darbelere karşı koruyup vücudun ısı dengesini de sağlar.

- A) 1-A 2-C 3-B 4-D
B) 1-B 2-C 3-D 4-A
C) 1-C 2-A 3-B 4-D
D) 1-B 2-A 3-C 4-D

- 3) Sindirim sistemi ile ilgili olarak aşağıda verilen bilgilerden hangisi doğru değildir?

- A) Ağız, sindirim sisteminin başlangıç organıdır.
B) Yutak, ağız ile mideyi birbirine bağlayan ince uzun bir kanaldır.
C) İnce bağırsak, sindirim kanalının mideden sonra gelen ve kalın bağırsakta son bulan yaklaşık 5 metre uzunluğundaki bölümdür.
D) Kalın bağırsak, ince bağırsaktan sonra gelen yaklaşık 1.5 metre uzunluğundaki kanaldır.

- 4) Yandaki şekilde siyah oklarla gösterilen, alt ve üst çenede sağlı sollu toplam 4 tane olan dişler hangileridir?



- A) Kesici dişler
B) Küçük azı dişleri
C) Büyük azı dişleri
D) Köpek dişleri

- 5) “Ben dengeli besleniyorum.” diyen bir öğrenci aşağıda verilenlerden hangisini yapıyor demektir?

- A) Sadece yağ ve karbonhidrat grubundaki besinleri tüketiyor.
B) Vücudun gelişmesini sağlamak için sadece protein grubundaki besinleri tüketiyor.
C) Her gruptan besini vücudunun ihtiyacı kadar miktarda tüketiyor.
D) Sürekli olarak sadece makarna, patates ve ekmek tüketiyor.

- 6) Okul laboratuvarındaki malzemeleri kullanarak bir dinamometre meydana getiren Oya'nın daha hassas ve küçük kuvvetleri de ölçebilmek için dinamometresinde hangi değişiklik yapmalıdır?

- A) Daha ince ve yumuşak yay kullanılmalıdır.
B) Daha kalın ve sert yay kullanılmalıdır.
C) Daha ağır bir yük asılmalıdır.
D) Daha hafif bir yük asılmalıdır.

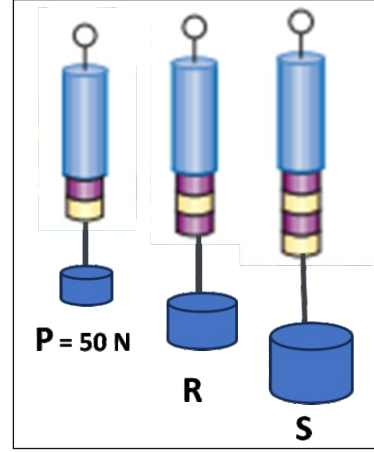
- 7) Mercan, odasındaki çalışma masasını iterek yerini değiştirdi. Odasının parlak mermer olan kısmında daha az kuvvet harcayarak masayı kolayca itebildiğini ancak halı olan kısmında zorlandığı için daha çok kuvvet harcaması gerektiğini fark etti.

Bu durumun nedeni aşağıda verilenlerden hangisidir?

- A) Farklı yüzeylerde sürtünme kuvvetinin de farklı olması.
B) Farklı yüzeylerde yer çekim kuvvetinin farklı olması.
C) Halı olan zeminde fazladan kaldırma kuvveti bulunması.
D) Parlak mermer zeminde sürtünmeden dolayı elektriksel kuvvet ortaya çıkması.

- 8) Yanda tüm özellikleri tamamen aynı olan üç dinamometre verilmektedir.

Buna göre "P" cismi 50 Newton olarak ölçülüyorsa "R" ve "S" cisimlerinin ölçüm değerleri kaç Newton'dur?



- A) $R = 100 \text{ N}$, $S = 250 \text{ N}$
 B) $R = 100 \text{ N}$, $S = 125 \text{ N}$
 C) $R = 75 \text{ N}$, $S = 150 \text{ N}$
 D) $R = 75 \text{ N}$, $S = 100 \text{ N}$

- 9) Maddeleri birbirinden ayırt etmek için her maddenin kendine özgü özellikleri kullanılır. Maddeleri tanıyıp diğer maddelerden ayırmaya yarayan özelliklere **maddenin ayırt edici özellikleri** denir.

Aşağıdakilerden hangisi maddenin ayırt edici özelliklerinden biri değildir?

- A) Donma Noktası
 B) Sıcaklık Noktası
 C) Erime Noktası
 D) Kaynama Noktası

- 10) **Ece:** Buharlaşma her sıcaklıkta, kaynama belli bir sıcaklıkta olur.
Sami: Buharlaşma sıvının yüzeyinde, kaynama sıvının her yerinde gerçekleşir.
Banu: Buharlaşma ve kaynama aynı anda başlar, aynı anda tamamlanır.
Toprak: Buharlaşmakta olan sıvının sıcaklığı değişebilir, kaynamakta olan sıvının sıcaklığı değişmez.

Yukarıda isimleri verilen dört öğrenci "kaynama" ve "buharlaşma" hakkındaki bilgilerini paylaşıyorlar.

Buna göre, hangi öğrencinin söylediği hatalıdır?

- A) Ece
 B) Sami
 C) Banu
 D) Toprak

11)

(1) bir enerji türüdür ve birimi joule veya (2) dir.
 (3) ise fiziksel bir büyüklüktür ve (4) ile ölçülür

Yukarıdaki paragrafta boş bırakılan yerlere gelmesi gerekenler hangi seçenekte doğru olarak verilmiştir?

- | <u>1</u> | <u>2</u> | <u>3</u> | <u>4</u> |
|-------------|----------|----------|-------------|
| A) Isı | kalori | Sıcaklık | termometre |
| B) Sıcaklık | derece | Isı | kalorimetre |
| C) Isı | Newton | Sıcaklık | kalorimetre |
| D) Sıcaklık | kalori | Isı | termometre |

12) Yandaki tabloda X ve Y maddelerinin donma ve kaynama noktaları verilmiştir.

Buna göre X ve Y maddelerinin 50 °C'deki halleri hangi seçenekte doğru olarak verilmiştir?

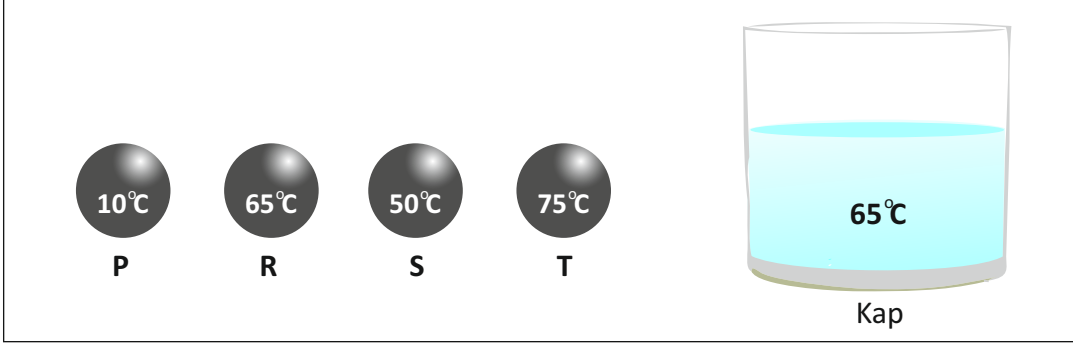
Maddeler	Donma Noktası (°C)	Kaynama Noktası (°C)
X	10	120
Y	80	200

- | <u>X</u> | <u>Y</u> |
|----------|----------|
| A) Sıvı | Gaz |
| B) Gaz | Katı |
| C) Katı | Sıvı |
| D) Sıvı | Katı |

13) Hal değişimi ile ilgili aşağıda verilen bilgilerden hangisi doğrudur?

- A) Katı maddeler ısı vererek sıvı haline geçerler.
 B) Sıvı maddeler ısı alarak gaz haline geçerler.
 C) Gaz maddeler ısı alarak katı haline geçerler.
 D) Katı maddeler ısı vererek önce sıvı sonra gaz haline geçerler.

- 14) İçinde 65°C 'de su bulunan kabın içerisine sıcaklıkları aşağıda verilen P, R, S ve T metal küreleri atılıyor.



Suya atılan bu kürelerden hangilerinde genleşme meydana gelir?

- A) Yalnız P
- B) Yalnız S
- C) P ve S
- D) R ve T

FEN VE TEKNOLOJİ TESTİ
BİTMİŞTİR.

- 1) İnsan katkısı olmadan oluşan eşsiz güzelliklere ve unsurlara doğal varlıklar denir. Ülkemizde de çok çeşitli doğal varlıklarımız bulunmaktadır.

Sami, babası ile birlikte hafta sonu tatilini ülkemizdeki doğal varlıklardan birine giderek değerlendirmiştir. Sami, hafta sonu tatilinde aşağıda verilenlerden hangisine gitmiş olabilir?

- A) Lala Mustafa Paşa Cami
B) Beşparmak Dağları
C) Girne Kalesi
D) Büyük Han

- 2) Kıbrıs'ta bir kasabadaki tarihi eser yıllar içinde bakımsız kalmış ve zarar görmüştür. Bu nedenle bölge halkı tarihi eserin korunması için bir kampanyaya başlatmıştır.

Tarihi eserin korunması için başlatılan bu kampanyanın amacı seçeneklerde verilenlerden hangisi olabilir?

- A) Tarihi eseri yıkıp yerine modern bir bina yapmak.
B) O bölgeyi kalın duvarlarla koruma altına almak.
C) O bölgeye insanların girişini yasaklamak.
D) Tarihi eserin restorasyon çalışmalarını başlatmak.

- 3) Tarihi varlıklarla ilgili aşağıda verilen başlıklar ve tanımların doğru eşleştirilmesi hangi seçenekte verilmiştir?

Başlıklar
1. Tarihi Mekan
2. Tarihi Eser
3. Tarihi Nesne

Tanımlar
A. Geçmiş uygarlıklardan günümüze ulaşan eserler.
B. Taşınabilir ve müzelerde sergilenebilir tarihi varlıklar.
C. Geçmişte yaşamış insan topluluklarına ait kalıntıların bulunduğu yapı ve alanlar.

- A) 1-A 2-B 3-C
B) 1-B 2-C 3-A
C) 1-C 2-B 3-A
D) 1-C 2-A 3-B

4) Bahçesine büyük ağaçlar dikmek için derin çukurlar kazandı Ali Bey, çok sayıda tarihi eser bulmuştur.

Bu durumda Ali Bey, ne yapmalıdır?

- A) Evinde saklamalıdır.
- B) Güvenli bir kasaya yerleştirmelidir.
- C) En yakın resmi makama bildirmelidir.
- D) Yerinden çıkarmadan yeniden üzerlerini örtmelidir.

5) Sadece kültürümüze ait yemek ve tatlıların hazırlandığı bir restorandaki menüde seçeneklerden hangisi bulunmaz?

- A) Şeftali Kebabı
- B) Hamburger
- C) Pirohu
- D) Çiçek Dolması

6) Bir kimsenin üzerine aldığı, yapmak zorunda olduğu ya da yaptığı bir iş için gerektiğinde hesap vermesi durumuna **sorumluluk** denir.

Aşağıdakilerden hangisi sorumluluk durumuna örnek olarak verilemez?

- A) Okulumuzdaki taşımacılık hizmetinden yararlanmak.
- B) Çevremizi temiz tutmaya özen göstermek.
- C) Ev işlerinde ailemize yardımcı olmak.
- D) Okul kurallarına uymak.

7) Arzu, sınıf kaptanlığı seçimi için aday olmuş ve oy kullanmıştır.

Buna göre Arzu, hangi hakkını kullanmıştır?

- A) Eğitim hakkı
- B) Yaşama hakkı
- C) Katılım hakkı
- D) Özel hayatın gizliliği hakkı

8) Aşağıda verilenlerden hangisi **Birleşmiş Milletler Çocuk Hakları Sözleşmesi'nde** yer alan **çocuk haklarından biri değildir**?

- A) Yaşamak her çocuğun temel hakkıdır.
- B) Her çocuğun eğitim ve öğretim görme hakkı vardır.
- C) Her çocuğun en iyi şekilde sağlık hizmeti alma hakkı vardır.
- D) Her insan 10 yaşına kadar çocuk sayılır. 10 yaşından büyük olanlar çocuk haklarından yararlanamaz.

9) Aşağıda verilenlerden hangileri resmi kurumdur?

1. Dr. Burhan Nalbantoğlu Devlet Hastanesi
2. Biyologlar Derneği
3. Girne Kaymakamlığı
4. Kıbrıs Türk Öğretmenler Sendikası
5. Milli Eğitim Bakanlığı

- A) 1, 2, 4
- B) 1, 3, 5
- C) 2, 3, 4
- D) 2, 4, 5

10)

- Gönüllü insanlar tarafından kurulmuştur.
- Üyeleri ücret almaz.
- Çalışma saatleri ve şartlarını kuruluşlar kendileri belirler.

Yukarıda verilen ifadeler seçeneklerdekinden hangisine aittir?

- A) Sivil Toplum Kuruluşu
- B) Resmi Kurum
- C) Cumhurbaşkanlığı
- D) Devlet Hastanesi