



MİLLÎ EĞİTİM ve KÜLTÜR BAKANLIĞI

KOLEJLERE GİRİŞ SINAVI-2 (KGS-2)

9 HAZİRAN 2018 CUMARTESİ

İsim/Soy İsim:.....

Aday No:.....

1. OTURUM SORU KİTAPÇIĞI

TÜRKÇE - FEN VE TEKNOLOJİ - SOSYAL BİLGİLER

GENEL AÇIKLAMA

1. Bu kitapçık, Türkçe, Fen ve Teknoloji ve Sosyal Bilgiler testlerini içermektedir. Kitapçık, 20 sayfadan oluşmaktadır. Sizlere bu üç testi cevaplayacağınız bir de TEST CEVAP KAĞIDI verilmiştir. Soru kitapçıklarının dağıtılmasının ardından salon başkanının gözetiminde kitapçığınızı kontrol ediniz. Hatalı olan kitapçıklar, sınav başlamadan önce mutlaka değiştirilecektir.
2. Size dağıtılan cevap kağıdının üzerine adınız, soyadınız ve aday numaranız bilgisayar tarafından yazılmış ve kodlanmıştır. Cevap kağıdının size ait olup olmadığını ve aday numaranızın doğru kodlanmış olup olmadığını kontrol ediniz.
3. Bu test 27 Türkçe, 14 Fen ve Teknoloji ve 10 Sosyal Bilgiler sorusundan ibarettir. Tüm soruları cevaplandırmanız için sizlere toplam **90 dakikalık** süre verilecektir.
4. Her soru için dört farklı seçenek verilmiştir. Bu seçeneklerden sadece bir tanesi doğru yanıt olup diğerleri yanlıştır.
5. Cevap kağıdında her sorunun karşısında bulunan şıklardan doğru yanıt olan dairenin içini koyu siyah ve yumuşak bir kurşun kalemle iyice karalayınız. **Kurşun kalem dışında başka çeşit kalem kullanmayınız.** Yanlış karalamalarınızı düzeltirken iz bırakmayacak şekilde dairenin içini yumuşak bir silgiyle iyice siliniz.
6. Soru kitapçığı üzerindeki boş yerleri işlem yapmak için kullanabilirsiniz.
7. Cevap kağıdınızı buruşturmayınız ve üzerine gereksiz işaret koymayınız.
8. Bilmediğiniz soruların üzerinde fazla zaman kaybetmeden diğer sorulara geçiniz. Zamanınız kalırsa yapmadıklarınızı yeniden gözden geçirirsiniz.

Şimdi aşağıdaki örnek sorunun nasıl cevaplandırılacağını beraberce inceleyelim.

ÖRNEK SORU: “Temiz” sözcüğünün (zıt) anlamlısı hangisidir?

A) Saf

B) Kirli

C) Yıkanmış

D) Pak

Bu sorunun doğru cevabı “Kirli” dir. Doğru olan bu cevap B seçeneğidir. Onun için, cevap kağıdındaki bu soruya ait seçeneklerde B dairesinin içi karalanmıştır. Hepinize başarılar dileriz.

(A)

(B)

(C)

(D)

Soru 1. Aşağıdakilerden hangisi kök sözcüktür?

- A) Tarak
- B) Taşıt
- C) Kazak
- D) Bakış

Soru 2. Hangi cümlenin öznesi gizli öznedir?

- A) Çocuk, sırtındaki küfeyi güçlkle taşıyordu.
- B) Anlatılanların doğru olup olmadığını araştırdı.
- C) O, her gün telefonla Süleyman'ı arar.
- D) Hafta sonu Yavuz ile Mert sinemaya gittiler.

Soru 3. Aşağıdaki cümlelerin hangisinde “bir” sözcüğü belgisiz sıfattır?

- A) Her gün iki saat ders çalışır, bir saat de kitap okurum.
- B) Öğretmen, ödevlerimizi yapmak için bize bir gün süre verdi.
- C) Bir saat sonra zil çalacak ve biz evlerimizin yolunu tutacağız.
- D) Yavuzlar bir akşam bize, misafirlğe geleceklermiş.

Soru 4. Okuduğu metinde hayvanların insan gibi davrandığını ve konuştuğunu söyleyen kişinin okuduğu metnin türü nedir?

- A) Hikaye
- B) Efsane
- C) Fabl
- D) Biyografi

Soru 5. Aşağıdakilerden hangisi kök ve eklerine doğru ayrılmıştır?

- A) görmedim → gör kök -me olumsuzluk eki -di zaman eki -m şahıs eki
- B) çamurluklar → çam kök -ur yapım eki -luk yapım eki -lar çoğul eki
- C) susadık → susa kök -dı zaman eki -k şahıs eki
- D) tuzak → tuz kök -ak yapım eki

Soru 6.

Annem, penceresinden kavak ağaçları görünen bir sağlık ocağında çalışırdı. Doktordu. Çoğu günler beni de yanında götürürdü. Orada tek çocuk olmanın krallığını yaşar, oyalanırdım. Yaramazlıklarımın, afacanlıklarımın hoş görüleceğini bilmenin kolaylıklarından fazlaca yararlanır, buna karşılık beni mınıcıklamalarına, yanaklarımı pembeleştiren makaslar almalarına ses çıkarmazdım. Pencereden uzanır, uçuşan pamukçukları yakalamaya çalışırdım. Kavakları silkeleyen rüzgâr oyun arkadaşım olurdu. Koca bahçe, önümde mülkümüş gibi uzanır, bense onu tasasız gözlerle izlerdim. Annemin masasında, güzel çerçeveler içinde benim ve babamın resmi dururdu. Gurur duyardım. Kocaman bir masası ve koltuğu vardı annemin. Annemi makamında daha çok severdim sanki, ya da sevgim başka bir boyut kazanırdı.

(Murathan Mungan; Pamukçuklar)

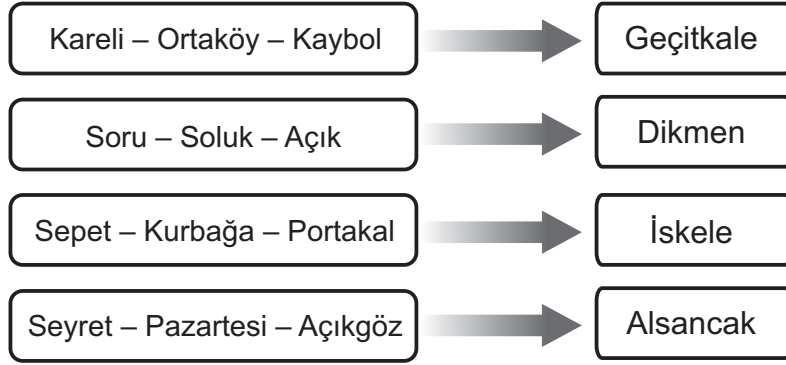
Bu parçayla ilgili olarak aşağıdaki yargılardan hangisi doğrudur?

- A) Annesinin bazı zamanlar sağlık ocağına götürdüğü çocuğa, sağlık ocağı çalışanları göz kulak olurdu.
- B) Çocuk, kendisi gibi sağlık ocağına getirilen öteki çocuklarla sağlık ocağının bahçesinde oyunlar oynardı.
- C) Çocuk, annesini sağlık ocağındaki doktor ve makam sahibi kimliğiyle değil evdeki sade haliyle daha çok severdi.
- D) Çocuk, sevildiğini hissettiği ve davranışlarının engellenmediğini bildiği için sağlık ocağında bulunmaktan mutlu olurdu.

Soru 7.



Nazan



Nazan, yapısı bakımından basit olan sözcüklerin eşleştiği yerleşim yerinde yaşadığına göre, nerede yaşamaktadır?

- A) İskele
- B) Alsancak
- C) Geçitkale
- D) Dikmen

Soru 8. Tabloda verilen çekimli fiillerden hangisinin zamanı ve kişisi doğru işaretlenmiştir?

Fiil	Zamanı					Kişisi					
	Di'li geçmiş zaman	Miş'li geçmiş zaman	Şimdiki zaman	Gelecek zaman	Geniş zaman	1. tekil kişi	2. tekil kişi	3. tekil kişi	I. çoğul kişi	II. çoğul kişi	III. çoğul kişi
çalışmış		✓									✓
okumaz					✓			✓			
daldınız	✓								✓		
gidiyorsun			✓							✓	

- A) çalışmış
- B) okumaz
- C) daldınız
- D) gidiyorsun

Soru 9. Aşağıdaki cümlelerin hangisinde yazım yanlışı yoktur?

- A) Erdinç'lerin okulu da bu yıl müsamere yapacakmış.
- B) Hafta sonu karpaza, Altın Kumsal'a denize gitmeyi düşünüyoruz.
- C) 2005'den beri KKTC'nde hellim üretimi yapıyorlarmış.
- D) BRT'nin ilk radyo yayınları 25 Aralık 1963'te başlamış.

Soru 10.

“Ya uyandığında bir sabah,
Unutursam saksıdaki zambağa yarım bardak su vermeyi,
Kavanozdaki balığımı yem atmayı unutursam,
Ne der babam?
“Zambağın ve balığın yaşamı sana bağlı oğlum,” demişti.
İşte ben bu yüzden unutmam, unutamam.”

Bu şiirle aşağıdaki sonuçlardan hangisine ulaşılır?

- A) Evdeki çiçek ve hayvanların bakımı çocuklara aittir.
- B) Her çocuk evinde çiçek yetiştirmeli, hayvan beslemelidir.
- C) Her insan sorumluluklarını bilmeli ve yerine getirmelidir.
- D) Ödev ve görevlerin yapılması için birinin uyarısı gerekir.

Soru 11. Aşağıdaki sözcüklerden hangisi isimden fiil yapan bir ekle türemiştir?

- A) Dostluk
- B) Sporcu
- C) Durak
- D) Dertleş

Soru 12.

“Doğum gününde ona mavi bir bisiklet alınmıştı. Onu çok sevmiştir
1 2
ancak kullanmayı bilmiyordu. Sonraki günlerde babası ona bisiklet
3
kullanmayı boş bir arsada öğretmişti. O, şimdi bisikletini trafik kurallarına
4
uyarak ve üzerinde gereksiz hareketler yapmadan kullanıyor.”

Bu paragrafta, altı çizili ve numaralanmış sözcüklerden hangisi işaret zamiridir?

- A) 1 numaralı sözcük
- B) 2 numaralı sözcük
- C) 3 numaralı sözcük
- D) 4 numaralı sözcük

Soru 13.

“Kitaplar() bilgilerin saklayıcısıdır() Bilgileri geleceğe kitaplar taşır()
Bir özdeyişte de şöyle deniyor() ()Kitaplar bugünle gelecek arasında bilgi
köprüleri kurar() Ne var ki bu köprüden geçebilmek() ondan yararlanabilmek
için okuma sanatını iyi bilmek gerekir()()

Emin ÖZDEMİR

Bu paragraftaki parantezler (ayraçlar) içerisine aşağıdaki noktalama işaretlerinden hangisinin getirilmesi uygun olmaz?

- A) Tırnak İşareti
- B) Virgül
- C) Ünlem
- D) İki nokta

Soru 14.

“Bir cahile bir kitap miras kalır;
Cahil de hemen bu kitabı alır;
Yol üstündeki kitapçıya uğrar;
Der ki: “Bu kitabı vereyim sana,
Yerine birkaç kuruş ver bana.”
La Fontaine

Verilen mısralarda geçen altı çizilmiş sözcüklerle ilgili aşağıdaki yorumlardan hangisi doğru değildir?

- A) “bir” sözcükleri sayı sıfatıdır.
- B) “bu” sözcükleri işaret sıfatıdır.
- C) “birkaç” sözcüğü belgisiz sıfattır.
- D) “sana”, “bana” sözcükleri kişi (şahıs) zamiridir.

Soru 15. Yazım kuralları bakımından yanlış olmayan cümle hangisidir?

- A) Ahmet te arkadaşları gibi okul gezisine katılmak istiyordu.
- B) Ödevimi tam bitiriyordum ki elektrikler kesildi.
- C) Bir baktımki çocuklar yavru köpeği sevmek için yarışıyorlar.
- D) Bugün Özdenlere gidelim, yarında size geliriz.

Soru 16.

“Hava çok sıcaktı. İki arkadaş, denize gitmeye karar verdik. Yarım saat sonra plajdaydık. Plajda bazı insanlar kumların üzerine uzanmış bazıları da denizde yüzüyor, eğleniyorlardı. Biz de kendimizi denizin serin sularına bıraktık. Kaç saat denizde kaldığımızı hatırlamıyorum ama öğleye doğru denizden çıktık. Gölgede, kafeteryada vakit geçirdik. Akşam üzeri, güneş ışınlarının zararlı etkisi azalınca yeniden denize girdik. Bir süre daha denizde yüzdük, eğlendik. Güzel bir gün geçirdik.”

Bu paragrafta aşağıdaki sıfat çeşitlerinden hangisi kullanılmamıştır?

- A) Niteleme sıfatı
- B) Belgisiz sıfat
- C) Kesir sayı sıfatı
- D) Sıra sayı sıfatı

Soru 17. Aşağıdaki cümlelerin hangisinde birden fazla sıfatla nitelenmiş bir isim vardır?

- A) Köyün çıkışındaki büyük, aydınlık, ferah ve yeni ev, Oyaların evidir.
- B) Törene beyaz gömlek, gri pantolon, siyah ayakkabı giyip gelmişti.
- C) Bayramda giymek için yeni pantolon, gömlek, kravat almıştı.
- D) Arkadaşlarıyla saklambaç, körebe, misket oynamayı çok severdi.

Soru 18.

(I) Öğretmen, dün parka kimler gitti? diye sordu. (II) Parka onlar gitmişti. (III) Orada güzelce oynamış, eğlenmişlerdi. (IV) Ancak içlerinden biri elindeki çöpleri etrafa savurmuş, çimenlerin üzerinde koşmuş, çiçekleri koparmış!..

Numaralanmış cümlelerde geçen zamirlerin çeşitleri, aşağıdaki seçeneklerden hangisinde doğru sıralanmıştır?

- A) I – Soru Zamiri II – İşaret Zamiri III – Belgisiz Zamir IV – Kişi Zamiri
- B) I – Belgisiz Zamir II – İşaret Zamiri III – Kişi Zamiri IV – Soru Zamiri
- C) I – Soru zamiri II – Kişi Zamiri III – İşaret Zamiri IV – Belgisiz Zamir
- D) I – Kişi Zamiri II – Soru Zamiri III – İşaret Zamiri IV – Belgisiz Zamir

Soru 19.

HOŞGÖRÜ USTASI

Nasrettin Hoca, dünyada en zor işi başaran insan. Bir güldürü ustası. En zor iş, insanı güldürmek, gülümsetebilmek. En kolay iş ise kırmak, üzme, aldatmak, ağlatmak.

O, sekiz yüz yıldır fıkralarıyla dünyaya gülücük dağıtıyor. Bir bilge, bir büyük düşünür, bir çağdaş eğitimci, bir hoşgörü ustası o. 1208 yılında Sivrihisar'da doğdu. İlk eğitimini babasından ve yörenin tanınmış öğretmenlerinden aldı. Büyüyünce Akşehir'e yerleşti. Geçimini köy imamlığı, öğretmenlik yaparak sağladı.

Eşi, çocukları, eşiğiyle alışılmış günlük yaşamını sürdüren Hoca, yaşamın çirkinliklerinden, sıkıntılarında, acılarından, yerine "cuk!" diye oturuveren bir çift sözcükle sıyrılır, çıkar. Yanındakileri de sıyrır alır. Hoca'yı dinleyenlerin sıkıntısı bir anda dağılır. Kendilerine güç, dudaklarına gülücük gelir.

Eleştiri iğnelerini hatır gönül yıkmadan, onur zedelemekten batırır. Eksik, kusurlu olanı da sever. Onları horlamaz. İnsanı insan olduğu için sever. Bu özellik, günümüzde ve her zaman insanlarda olması gereken en temel değerlerden hoşgördür. Hoşgörüsüz insanlar zorba, kırıci, yıkıcı olurlar. Tarih bu tür insan örnekleriyle doludur.

Hoşgörü insanlara bugün geçmişten daha çok gerekli. Bu nedenle Hoca'mız daha da önem kazanmakta. Çünkü o katıksız bir hoşgörü ustası, hoşgörü kahramanı.

Hasan YİĞİT
Nasrettin Hoca

Güldürü ustamız Nasrettin Hoca'nın anlatıldığı bu parçadan Nasrettin Hoca'yla ilgili olarak aşağıdaki ayrıntılardan hangisi çıkarılamaz?

- A) Yaşamını sekiz yüz yıl kadar önce Sivrihisar – Akşehir yöresinde geçirmiş eğitimli ve bilge bir kişi olduğu
- B) İnsanların kusurları, hataları, eksiklikleriyle alay edip kendi çevresindeki insanları güldürdüğü
- C) Fıkralarında günlük yaşamın sorunlarına, zorluklarına, sıkıntılara karşı yaptığı güldürücü yorumlarla insanları rahatlattığı
- D) İnsanları oldukları gibi kabul eden, kimseyi horlamayan, kırmayan, incitmeyen hoşgörü sahibi bir kişi olduğu

Soru 20. “ Gerçek dostluk; inanç, sevgi, saygı ve güven karışımı bir kavramdır.” cümlesinde geçen yapım eki almış sözcüklerin tümü hangi seçenekte gösterilmiştir?

- A) Gerçek – inanç – saygı – ve – kavramdır – güven
- B) Sevgi – dostluk – gerçek – güven – bir – karışımı
- C) İnanç – güven – bir – kavramdır – gerçek – dostluk
- D) Dostluk – inanç – sevgi – saygı – karışımı – kavramdır

Soru 21.

Doğduğum köyde bir sokak vardı,
Adı üstünde: Telgraf Sokağı.
Hem güzel hem şirin hem dardı.
O kadar dardı ki orada birbirine
Dokunur, komşu evlerin saçağı.
Aradım, nerede Telgraf Sokağı?

Orhan Seyfi ORHON

Bu kıtayla ilgili olarak aşağıdaki sonuçlardan hangisi doğru değildir?

- A) Telgraf Sokağı'nın en belirgin özelliği çok dar oluşuydu.
- B) Şair, sokağı yeniden ziyaret edebilmenin mutluluğunu yaşamıştır.
- C) Şair, özlem duyduğu Telgraf Sokağı'nın yok oluşuna üzülmüştür.
- D) Şair, doğduğu köyde değil başka bir yerde yaşamaktadır.

Soru 22. Aşağıdaki sözcüklerden hangisi farklı türde bir kökten türemiştir?

- A) Yangın
- B) Soluk
- C) Tuzluk
- D) Okul

Soru 23.

Yaşlı adam kulübesinin önünde torunuyla bir yaz günü oturmuş, az ötede birbirleriyle boğuşup duran iki köpeği izliyorlardı. Köpeklerden biri beyaz, biri siyahı ve on iki yaşındaki çocuk kendini bildi bileli o köpekler dedesinin kulübesi önünde boğuşup duruyorlardı.

Dedesinin sürekli göz önünde tuttuğu, yanından ayırmadığı iki iri köpekti bunlar. Çocuk, kulübeyi korumak için biri yeterli gözükürken niye ötekinin de olduğunu, hem niye renklerinin illa da siyah ve beyaz olduğunu anlamak istiyordu artık. O merakla sordu dedesine.

Yaşlı adam, bilgece bir gülümsemeye torununun sırtını sıvazladı.

“Onlar” dedi, “benim için iki simgedir evlat.”

“Neyin simgesi?” diye sordu çocuk.

“İyilik ile kötülüğün simgesi. Aynen şu gördüğün köpekler gibi, iyilik ve kötülük içimizde sürekli mücadele eder durur. Onları seyrettikçe ben hep bunu düşünürüm. Onun için yanımda tutarım onları.”

Çocuk, sözün burasında, mücadele varsa, kazananı da olmalı, diye düşündü ve her çocuğa has bitmeyen sorulara bir yenisini ekledi:

“Peki, sence hangisi kazanır bu mücadeleyi?”

Bilge adam, derin bir gülümsemeye baktı torununa:

“Hangisi mi evlat? Ben hangisini daha iyi beslersem o!”

Bu metinle ilgili olarak aşağıda verilen cümlelerin önlerine doğru ise “D”, yanlış ise “Y” harfi yazılırsa sırasıyla hangi sonuç elde edilir?

- ... Çocuk, on iki yaşından beri dedesiyle, sürekli boğuşan köpekleri izliyormuş.
- ... İnsanların, başkalarına iyilik veya kötülük yapma kararı kendi ellerindedir.
- ... Dede, kulübesinin daha iyi korunması için bir değil iki köpek besliyormuş.
- ... Köpeklerin zıt renkleri dedeye iyilik ve kötülüğü düşündüren görsellermiş.

- A) Y – D – Y – D
- B) D – D – Y – D
- C) D – Y – Y – Y
- D) Y – D – D – Y

Soru 24. Aşağıda uygun noktalama işaretleriyle sonlandırılmamış söz dizimlerinden hangisinde soru anlamı vardır?

- A) Ne zaman tatile çıkacaklarını söylemediler
- B) Burada birçok meyve yetişir: üzüm, incir, çilek
- C) Ne kadar da değerli bir vazoymuş
- D) Sınav sonuçları ne zaman açıklanacak

Soru 25. Aşağıdaki cümlelerin hangisinde unvan (san) sıfatı yoktur?

- A) Kedimizi, aşı yapması için Veteriner Ali Ünlü'ye götürdük.
- B) Muhtarımız Ayten Hanım, mahallemiz için özveri ile çalışır.
- C) Annemlerin en küçüğü Aylin teyzem, yurt dışında okuyor.
- D) Nazife Öğretmen, öğrencilerini gözlem gezisine götürdü.

Soru 26.



Resimle ilgili olarak aşağıda verilen bilgilerden hangisi doğru olamaz?

- A) Resimdeki ayrıntılar bize mevsimin bahar olduğunu göstermektedir.
- B) Bir grup çocuk, çok sıcak bir günde kırdaki piknik yapmaktadır.
- C) Çocukların görünüşleri, neşeli ve mutlu olduklarını yansıtmaktadır.
- D) Her çocuk kendince eğlenerek günün tadını çıkarmaktadır.

Soru 27. "Özgür'ün daveti üzerine Kaan da doğum günü partisine katıldı." cümlesinin öznesi aşağıdakilerden hangisidir?

- A) Özgür
- B) Daveti
- C) Doğum günü
- D) Kaan

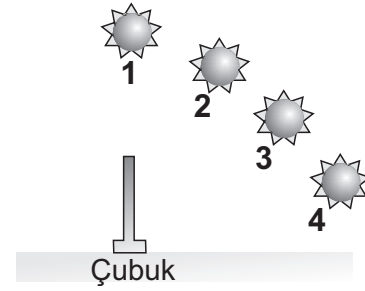
**TÜRKÇE TESTİNİZ BİTMİŞTİR.
YANITLARINIZI KONTROL EDEREK
FEN VE TEKNOLOJİ TESTİNE GEÇİNİZ.**

Soru 1. Aşağıda verilen paragrafta boş bırakılan yerlere yazılması gerekenler hangi seçenekte **sırasıyla** doğru olarak verilmiştir?

Üzerine gelen ışığı tamamen geçiren maddelere^I..... , ışığı hiç geçirmeyen maddelere ise^{II}..... madde denir. Bulutlar, ışığın bir kısmını geçirdikleri için^{III}..... maddelere örnektir.

- | <u>I</u> | <u>II</u> | <u>III</u> |
|-----------|-------------|-------------|
| A) Opak | Saydam | Yarı Saydam |
| B) Saydam | Yarı Saydam | Opak |
| C) Saydam | Opak | Yarı Saydam |
| D) Opak | Yarı Saydam | Saydam |

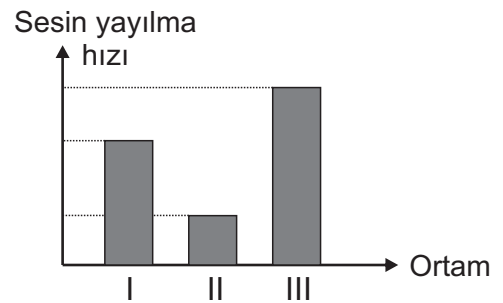
Soru 2. Şekilde görüldüğü gibi zemine dik olarak bir çubuk yerleştirilmiştir. Günün farklı saatlerinde, Güneş 1, 2, 3 ve 4 konumlarında iken bu çubuğa ait gölge boylarını **en uzundan en kısaya** doğru sıraladığımızda hangi seçenekteki sıralama doğru olur?



- A) 1 - 2 - 3 - 4
 B) 1 - 3 - 4 - 2
 C) 4 - 1 - 3 - 2
 D) 4 - 3 - 2 - 1

Soru 3. Yandaki grafik, farklı hallerdeki ortamlarda sesin yayılma hızlarını göstermektedir. **Bu ortamların fiziksel hali hangi seçenekte doğru olarak verilmiştir?**

- | <u>I</u> | <u>II</u> | <u>III</u> |
|----------|-----------|------------|
| A) Katı | Sıvı | Gaz |
| B) Katı | Gaz | Sıvı |
| C) Sıvı | Gaz | Katı |
| D) Gaz | Katı | Sıvı |



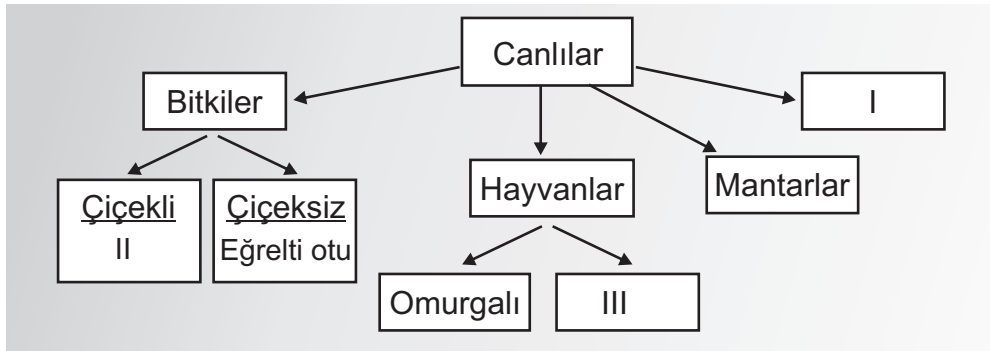
Soru 4.

- I. Çiçekli bitkiler kendi tohumlarını üretir.
- II. Kara yosunu bitkisinin üreme organı çiçektir.
- III. Yediğimiz tüm meyveler çiçekli bitkilere örnektir.

Yukarıda verilen bilgilerden hangileri doğrudur?

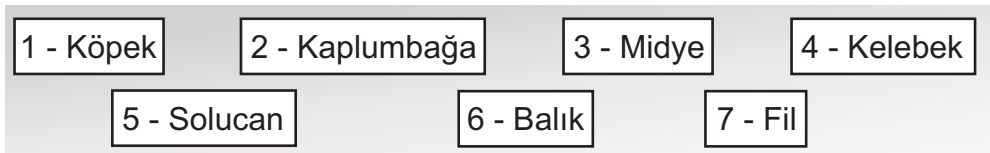
- A) I, II, III
- B) I ve III
- C) II ve III
- D) I ve II

Soru 5. Aşağıda I, II ve III olarak numaralandırılmış yerlere yazılması gerekenler hangi seçenekte doğru olarak verilmiştir?



- | I | II | III |
|-------------------------|-------------|------------|
| A) Balıklar | Kara Yosunu | Omurgasız |
| B) Kurbağalar | Limon Ağacı | Balıklar |
| C) Mikroskopik Canlılar | Domates | Omurgasız |
| D) Mikroskopik Canlılar | Kara Yosunu | Kaplumbağa |

Soru 6. İrem, aşağıdaki hayvanları omurgalı-omurgasız olma durumuna göre sınıflandırmak istiyor.



Bu hayvanlardan kaç numaralı olanları **omurgasız** bölümüne eklemelidir?

- A) 3 - 4 - 5
- B) 1 - 2 - 3
- C) 3 - 6 - 7
- D) 1 - 5 - 6

Soru 7. Aşağıdaki maddeleri iletken ve yalıtkan olma durumlarına göre sınıflandırdığımızda hangileri **iletkenler** grubunda yer alır?

Bakır

Tahta

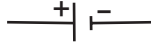

Demir

Alüminyum

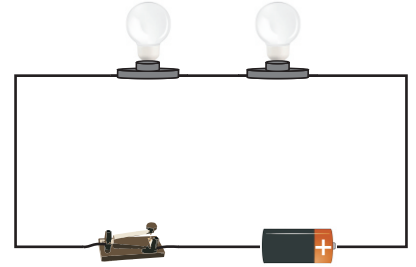
Plastik

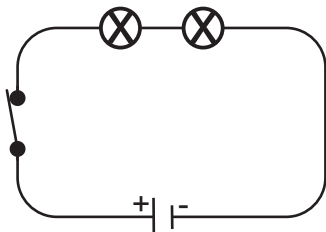
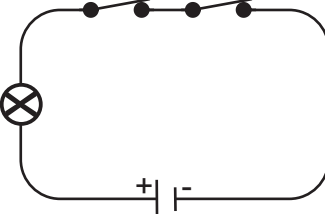
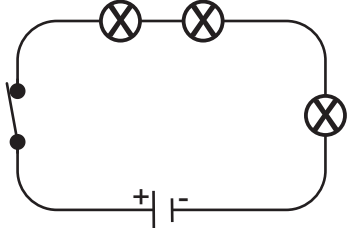
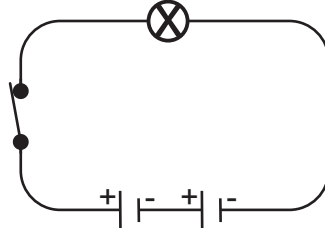
- A) Bakır - Tahta - Demir
 B) Demir - Alüminyum - Plastik
 C) Demir - Tahta - Alüminyum
 D) Bakır - Demir - Alüminyum

Soru 8. Aşağıda devre elemanları ile sembolleri eşleştirilmiştir. Buna göre, hangi seçenekteki eşleştirme **yanlıştır**?

- A) Kapalı anahtar \Rightarrow 
 B) Açık anahtar \Rightarrow 
 C) Pil \Rightarrow 
 D) Lamba \Rightarrow 

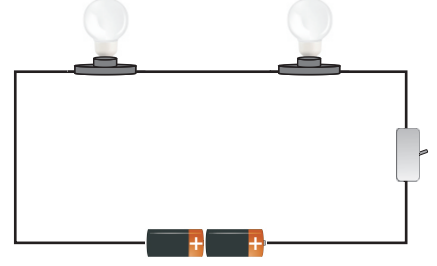
Soru 9. Yanda verilen basit elektrik devresinin sembollerle gösterilmiş devre şeması, hangi seçenekte doğru olarak verilmiştir?



- A) 
 B) 
 C) 
 D) 

Soru 10. Şekildeki devre ile ilgili olarak:

- I. Bir anahtar daha eklenirse parlaklık azalır.
- II. Ampul eklenirse parlaklık azalır.
- III. Ampul eklenirse parlaklık artar.
- IV. Pil eklenirse parlaklık azalır.



İfadelerinden hangisi veya hangileri doğrudur?

- A) I ve II
- B) Yalnız II
- C) II, III ve IV
- D) III ve IV

Soru 11. Aşağıdakilerden hangisi ülkemizde bulunan **doğal anıtlardan değildir**?

A) İncirli Mağara



B) Beşparmak Tepesi



C) Soli Harabeleri



D) Kalkanlı Anıt Zeytin Ağaçları



Soru 12.



Ayşe Öğretmenin cümlesi aşağıdakilerden hangisiyle **tamamlanamaz**?

- A) atık sular, akarsulara, denizlere ve toprağa bırakılmalıdır.
- B) doğal bitki örtüsü korunmalı, yeşil alanlar artırılmalıdır.
- C) tarım ürünlerinde kimyasal ilaç kullanılmamalıdır.
- D) plastik poşet kullanımı azaltılmalıdır.

Soru 13. Aşağıdaki tanımlarla isimlerin doğru eşleştirilmiş biçimi hangi seçenekte verilmiştir?

- I. Çok uzak cisimleri yakındaymış gibi gösterebilen, böylelikle de çok daha kolay gözlem yapmamızı sağlayan alettir.
- II. Bilim insanlarının uzayda uzun süre kalmalarını sağlayan uzay araçlarıdır.
- III. Dünyanın etrafını Vostok-1 adlı kapsül ile ilk kez dolaşan kişidir.
- IV. Ay'da yürüyen ilk insanlardan biridir.

- A. Yuri Gagarin
- B. Teleskop
- C. Uzay İstasyonu
- D. Neil Armstrong

- A) I ⇒ B, II ⇒ C, III ⇒ A, IV ⇒ D
- B) I ⇒ C, II ⇒ B, III ⇒ A, IV ⇒ D
- C) I ⇒ B, II ⇒ A, III ⇒ D, IV ⇒ C
- D) I ⇒ C, II ⇒ B, III ⇒ D, IV ⇒ A

Soru 14. Azra, Güneş Sistemi'ndeki gezegenlere yönelik bir görsel levha hazırlamak istiyor. Buna göre, **Gezegenleri Güneş'e yakınlıklarına göre sıralayacak olursa ilk ve son sırada yer alacak gezegenler hangi seçenekte doğru olarak verilmiştir?**

- A) Dünya - Neptün
- B) Merkür - Dünya
- C) Merkür - Neptün
- D) Venüs - Uranüs

**FEN VE TEKNOLOJİ TESTİNİZ BİTMİŞTİR.
YANITLARINIZI KONTROL EDEREK SOSYAL BİLGİLER TESTİNE GEÇİNİZ.**

Soru 1. Bir kitapta iki farklı sayfada Kıbrıs haritası çizilmiş ancak ikisinin sayfada kapladığı alan birbirinden farklı olmuştur.

Bu durumun nedeni aşağıdakilerden hangisi ile açıklanabilir?

- A) Haritaların biri siyasi diğeri de fiziki haritadır.
- B) Haritalarda farklı ölçekler kullanılmıştır.
- C) Haritalarda farklı işaretler kullanılmıştır.
- D) Haritalarda gösterilen yer şekilleri farklıdır.

Soru 2. Aşağıda verilen ölçeklerden hangisi, **en fazla ayrıntıyı** gösteren haritaya aittir?

- A) 1 / 250
- B) 1 / 2 500
- C) 1 / 25 000
- D) 1 / 250 000

Soru 3. İncelediğimiz fiziki bir haritada farklı renkler görüyorsak ve bu renkler gittikçe kahverengiye dönmekteyse bu neyi gösteriyordur?

- A) Tarıma uygun ovaların arttığını
- B) Nüfus yoğunluğunun arttığını
- C) Yükseltelerin arttığını
- D) Yerleşim yerlerinin arttığını

Soru 4. Toplumsal yaşamı kolaylaştıran, barış ve huzur içinde yaşamamızı sağlayan hukuk kurallarının başında gelen, devletin temel yasası aşağıdakilerden hangisidir?

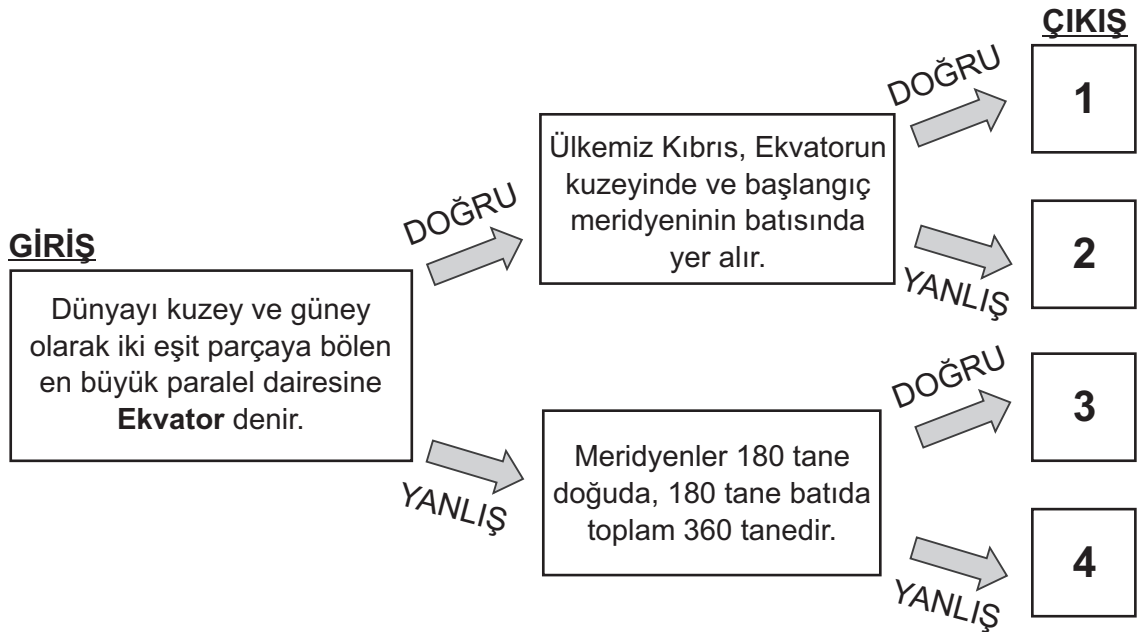
- A) Tüzük
- B) Yazısız Kurallar
- C) Yasalar
- D) Anayasa

Soru 5. Aşağıda verilen paragrafta boş bırakılan yerlere yazılması gerekenler hangi seçenekte **sırasıyla** ve doğru olarak verilmiştir?

Ülkemizin başkenti Lefkoşa I , Girne, Gazimağusa ve İskele ilçeleri ise denize yakın olmasından dolayı II yönünden daha fazla gelişmiştir. Mesarya bölgesinde III , Güzelyurt ve Lefke ilçelerinde ise IV üretimi öne çıkmaktadır.

<u>I</u>	<u>II</u>	<u>III</u>	<u>IV</u>
A) Turizm	Sanayi	Tahıl	Narenciye
B) Turizm	Tahıl	Narenciye	Sanayi
C) Sanayi	Narenciye	Turizm	Tahıl
D) Sanayi	Turizm	Tahıl	Narenciye

Soru 6. Aşağıdaki şemada çerçeveler içerisinde bilgiler verilmiştir. **Giriş** çerçevesinden başlayarak, verilen bilgilerin "**doğru**" veya "**yanlış**" olmasına göre, okları izlediğimiz zaman kaç numaralı **çıkışa** ulaşırız?



- A) 1
B) 2
C) 3
D) 4

Soru 7.



Hüseyin

Benim ülkemde devlet egemenliği sadece bir kişiye aittir. Bir hükümdarımız var. Kısaca saltanat da diyebiliriz.



Şebnem

Benim ülkemde devlet yönetimi tamamen halka aittir. Meclisi ve ülkenin başkanını belli aralıklarla halk seçer.



Ali

Benim ülkemde devlet egemenliği bir gruba verilmiştir. Küçük ve ayrıcalıklı bir grup iktidardadır.



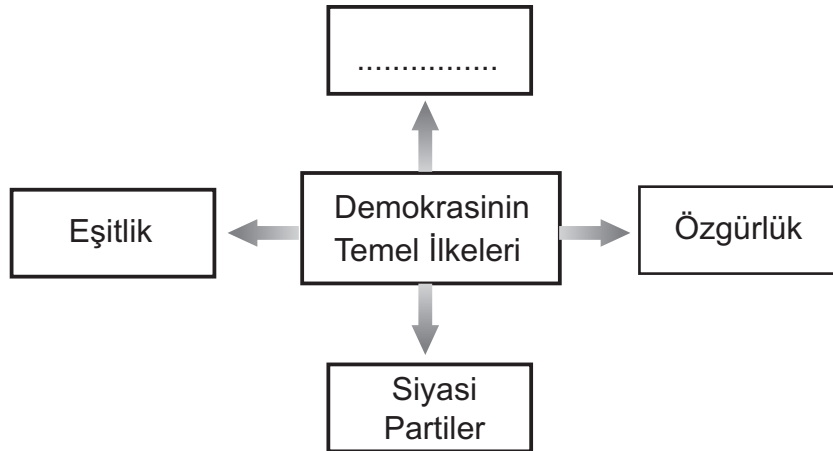
Fatma

Benim ülkemde devlet egemenliği sadece dine dayalıdır. Yönetimde sadece din adamlarının sözü geçer.

Yukarıda konuşan çocukların ülkelerindeki yönetim şekilleri hangi seçenekte doğru olarak verilmiştir?

<u>Hüseyin</u>	<u>Şebnem</u>	<u>Ali</u>	<u>Fatma</u>
A) Demokrasi	Oligarşi	Teokrasi	Monarşi
B) Monarşi	Demokrasi	Oligarşi	Teokrasi
C) Teokrasi	Demokrasi	Monarşi	Oligarşi
D) Oligarşi	Monarşi	Demokrasi	Teokrasi

Soru 8. Aşağıdaki şekilde demokrasinin temel ilkeleri verilmiştir. Buna göre, boş bırakılan yere seçeneklerden hangisinin gelmesi uygun olur?



- A) Milli Egemenlik
- B) Oligarşi
- C) Yönetim
- D) Cumhurbaşkanı

Soru 9.

Başbakan: Ülkemizde son yapılan seçimde hiçbir siyasi parti tek başına iktidar olacak kadar oy alamamıştır. Bu yüzden birkaç partinin katılımı ile hükümeti oluşturduk.

Yukarıda Başbakanın verdiği bilgiye göre, kurulan hükümet şekline ne ad verilir?

- A) Koalisyon Hükümeti
- B) Tek başına iktidar hükümeti
- C) Başbakan Hükümeti
- D) Demokrasi Hükümeti

Soru 10.

1. Bakanlar Kuruluna başkanlık etmek.
2. Halk adına mecliste görev yapmak.
3. Yasaları oluşturmak.

- A. Cumhuriyet Meclisi
- B. Başbakan
- C. Milletvekili

Yukarıda verilenlerin doğru olarak eşleştirilmiş biçimi hangi seçenekte verilmiştir?

- A) 1 ⇒ A, 2 ⇒ B, 3 ⇒ C
- B) 1 ⇒ C, 2 ⇒ B, 3 ⇒ A
- C) 1 ⇒ B, 2 ⇒ C, 3 ⇒ A
- D) 1 ⇒ C, 2 ⇒ A, 3 ⇒ B

**SOSYAL BİLGİLER TESTİNİZ VE SINAVINIZIN I. OTURUMU BİTMİŞTİR.
YANITLARINIZI KONTROL EDİNİZ.**